

# 1 上 階段評估 (一)

(包含 1 上 A 單元一至二的學習內容)

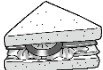
建議時間：30 分鐘

姓名：\_\_\_\_\_

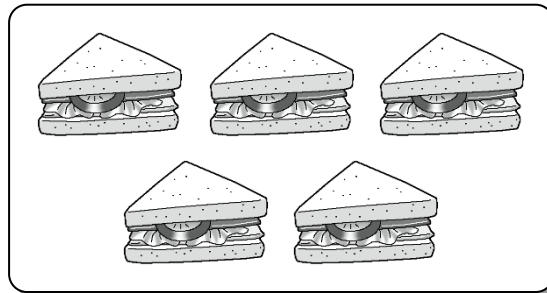
班別：\_\_\_\_\_ ( )

日期：\_\_\_\_\_

成績：\_\_\_\_\_/21

- ① 數一數，右圖中共有  多少件？


- A. 4                      ● B. 5  
○ C. 6                      ○ D. 7



(1 分)

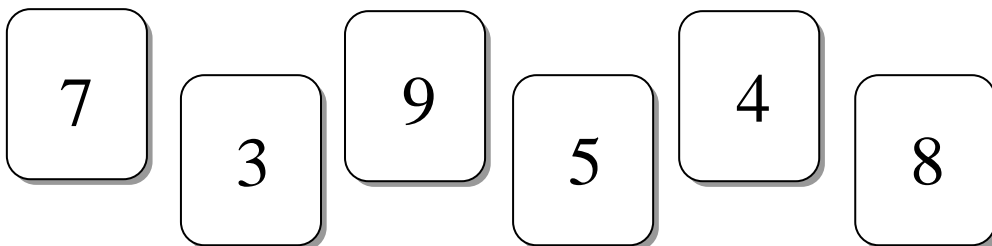
- ② 數一數，圈出下圖中笑臉的數量。

(1 分)



( 7 / 8 / 9 )

- ③




在上面的數卡中，

(a) 比 6 小的數有： 3, 5, 4 全對才給分 (1 分)


(b) 比 8 小又比 4 大的數有： 7, 5 全對才給分 (1 分)

④



由小至大排列：1 → 4 → 5 → 7 → 8 (1 分)  
全對才給分

⑤



這是\* 順數 / 倒數。( \* 圈出答案 ) (1 分)

⑥



依規律填一填。

(a) — 

2	3	4	5	6	7
---	---	---	---	---	---

 → 全對才給分 (1 分)

(b) — 

9	8	7	6	5	4
---	---	---	---	---	---

 → 全對才給分 (1 分)

⑦

6 是 \* 單數 / 雙數。( \* 圈出答案 ) (1 分)

⑧


在 4 至 8 各數中，5 和 7 是單數。  
每個答案 1 分 (2 分)

⑨ 看圖填一填。



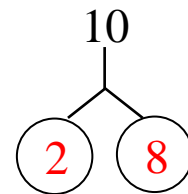

5 和 1 是 6。全對才給分

(1 分)



3 和 6 是 9。全對才給分

(1 分)



全對才給分

(1 分)

⑩ 2 和 3 是 5。

(1 分)

⑪ 4 和 5 是 9。

(1 分)

⑫ 以下哪組數可組成 8？




(1 分)

A. 1 和 9


B. 1 和 8

C. 2 和 4

D. 6 和 2

- ⑬ 湖中有 7 隻 ，湖邊有 3 隻 ，共有  多少隻？

(1 分)



答案：10 隻

- ⑭ 以下哪一項是正確的？

(1 分)

A. 4 和 1 是 6。

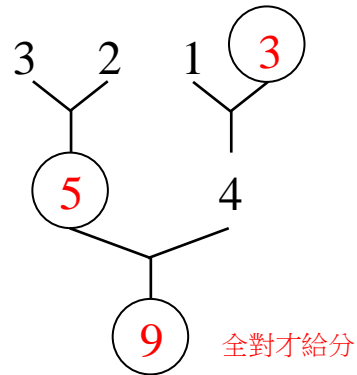
B. 3 和 5 是 8。

C. 7 和 2 是 8。


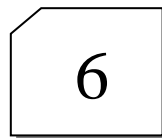
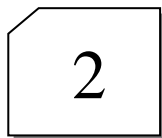
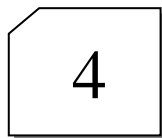
D. 1 和 9 是 9。

- ⑮ 在空格內填上正確的數。

(1 分)



- ⑯



在上面的數卡中，選用其中三張組成一個組合。

(1 分)

答案：4 和 2 是 6。全對才給分

— 全卷完 —