

1 上 階段評估 (四)

(包含 1 上 B 單元九至十一的學習內容)

姓名：_____


班別：_____ ()

日期：_____

成績：_____/24

建議時間：30 分鐘

①




看圖填一填。(1 分)

$$16 - \underline{7} = \underline{9}$$

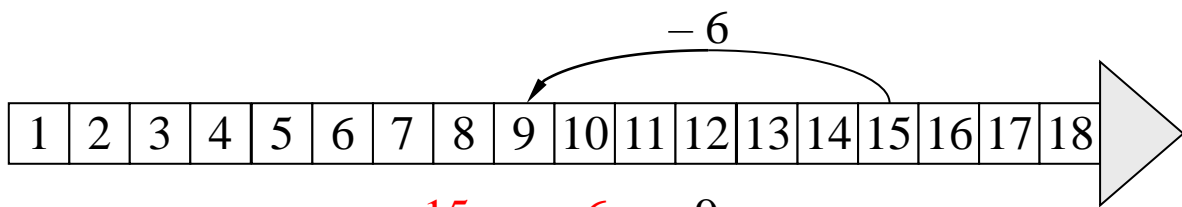
全對才給分

②



共有 \triangle 和 \bigcirc : $\underline{9} + \underline{8} = \underline{17}$ 全對才給分 (1 分)

③



$$\underline{15} - \underline{6} = 9$$

全對才給分

(1 分)

④

$$9 + 3 = \underline{12}$$

(1 分)

⑤

$$8 + 6 = \underline{14}$$

(1 分)

⑥

$$18 - 9 = \underline{9}$$

(1 分)

⑦

$$15 - \underline{8} = 7$$

(1 分)

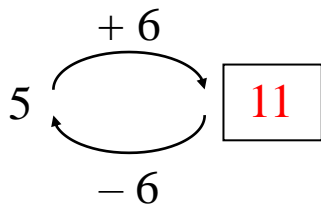
⑧

$$4 + 7 = 7 + \underline{4}, \text{ 結果都是 } \underline{11}。$$

全對才給分

(1 分)

9




$$5 + 6 = \boxed{11}$$

$$\boxed{11} - 6 = 5$$

全對才給分

(1 分)


10




🔔 比 🕯️ 多：13 - 6 = 7 全對才給分

(1 分)

11




精品店昨天賣去  後，剩下上面的數量。



精品店原有 16 個  。

(1 分)

12








(a) 一包  和 一包  共有 13 粒糖果。 (1 分)

(b) 叔叔有  和  各一包，他

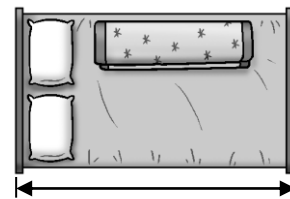
* 可以 / 不可以 (* 圈出答案) 把所有糖果分成數量相等的兩份。 (1 分)

13

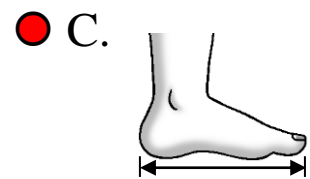
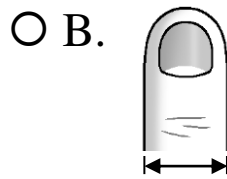
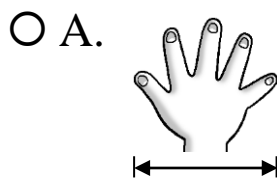


- (a) *  /  /  /  最高。 (* 圈出答案) (1 分)
- (b) 距離  最近的是 *  /  /  。 (1 分)
- (* 圈出答案)

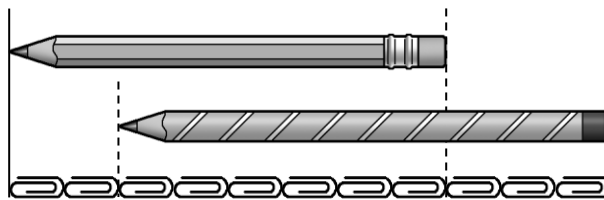
14 身體哪一部分最適合用來量度睡牀的長度？










(1 分)

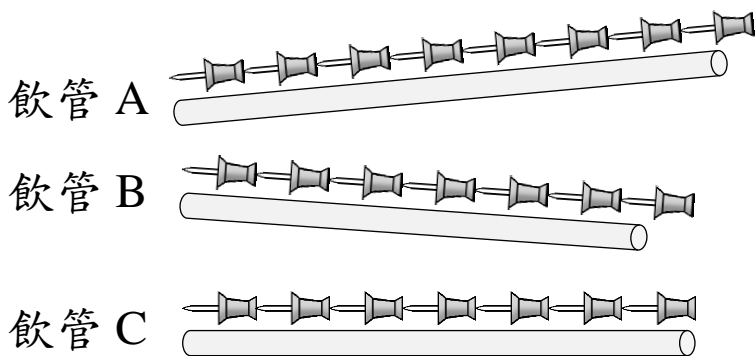


15



- (a)  的長度約是 8 個  。 (1 分)
- (b)  的長度約是 9 個  。 (1 分)
- (c)  比  * 長 / 短 (* 圈出答案) 1 個  。 全對才給分 (1 分)

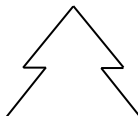
16




比較以上三枝飲管的長度，

最長的是飲管 * **A** / B / C 。(* 圈出答案) (1 分)

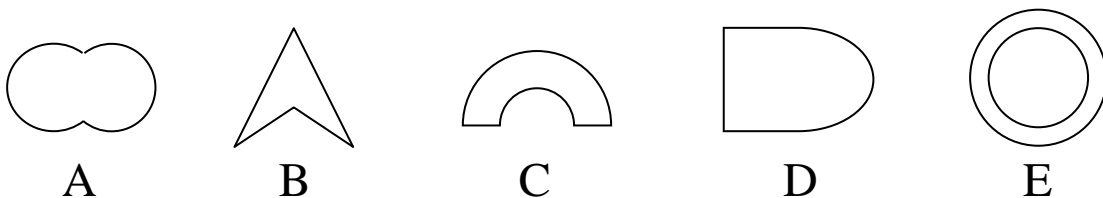
17

(a)  左圖是由 * **直線** / 曲線 / 直線和曲線 組成。
(* 圈出答案) (1 分)

(b)  左圖是由 * 直線 / 曲線 / **直線和曲線** 組成。
(* 圈出答案) (1 分)

18

觀察下面的平面圖形，寫出所有代表答案的英文字母。



列出：

(a) 只用曲線組成的圖形： A, E 全對才給分 (1 分)

(b) 用直線和曲線組成的圖形： C, D 全對才給分 (1 分)

— 全卷完 —