

階段評估（一）

（包含課本 3 上 A 的學習內容）

姓名：_____

班別：_____（_____）

日期：_____

成績：_____ / 30

建議時間：30 分鐘

① 下列哪一個數萬位的數字是「7」？ (1 分)

A. 17 683

B. 40 579

C. 59 427

D. 73 281

② 在 28 403 中，數字「4」是在 (1 分)

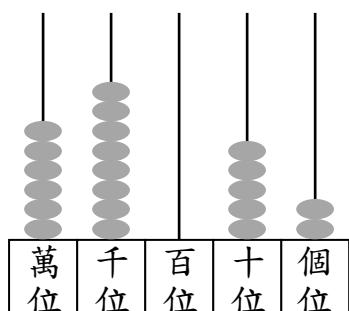
A. 個位。

B. 十位。

C. 百位。

D. 千位。

③



(a) 用中國數字寫出上圖算柱所代表的數。 (1 分)

答案： 六萬八千零五十二

(b) 在上圖算柱所代表的數中，千位的數字是 8，
而它的數值是 8000。全對才給分 (1 分)

④ 把以下各數由大至小排列。 (1 分)

38 490，4010，38 501

答案： 38 501，38 490，4010 全對才給分
(最大) (最小)

⑤ $524 + 4183 = \underline{4707}$ (1 分)

⑥ $2716 + 283 + 6211 = \underline{9210}$ (1 分)

⑦ $3148 + 196 = \underline{196} + 3148$ (1 分)

⑧ $9000 - 3548 - 2481 = \underline{2971}$ (1 分)

⑨ 爸爸有 1540 元，還欠 835 元才可購買一部攝錄機，這部攝錄機的售價是 2375 元。 (1 分)

⑩ 科學館昨天有 5388 人入場參觀，今天有 7192 人入場參觀，兩天的入場人數相差 1804 人。 (1 分)

⑪ 書店內有中文書 4870 本，英文書 1348 本，圖畫書比中文書少 1795 本。圖畫書比英文書多幾本？（列式計算） (3 分)

圖畫書比英文書多：	或	$4870 - 1795 - 1348$
$4870 - 1795 - 1348$		$= 3075 - 1348$
$= 3075 - 1348$		$= 1727$
$= 1727$ (本)		圖畫書比英文書多 1727 本。
	或其他合理算法	

⑫ 家樂徑分成 A、B 兩段，A 段長 953 米，B 段比 A 段長 418 米，家樂徑全長多少米？（列式計算） (3 分)

家樂徑全長：	或	$953 + 418 + 953$
$953 + 418 + 953$		$= 1371 + 953$
$= 1371 + 953$		$= 2324$
$= 2324$ (米)		家樂徑全長 2324 米。
	或其他合理算法	

⑬ 在空格內填上正確的數字。

(1 分)

$$\begin{array}{r} 6087 \\ - 2145 \\ \hline 3942 \end{array}$$

⑭ $473 \times 3 =$ 1419

(1 分)

⑮ $2 \times 35 \times 6 =$

(1 分)

A. 350

B. 420

C. 480

D. 700

⑯ 檸檬茶一箱有 24 盒，便利店現有 8 箱檸檬茶，即有檸檬茶 192 盒。

(1 分)

⑰



13 元 9 角



8 元 5 角

爸爸買了 4 把剪刀，共需付多少元？（列式計算）

(3 分)

共需付：
 $13 \text{ 元 } 8 \text{ 角} \times 4$
 $= 55 \text{ 元 } 2 \text{ 角}$

或

$13 \text{ 元 } 8 \text{ 角} \times 4$
 $= 55 \text{ 元 } 2 \text{ 角}$
共需付 55 元 2 角。

⑱ 在下列各項填上適當的度量單位。

(a) 大帽山 高約 957 米 / m。

(1 分)


(b) 一盒曲奇餅重約 400 克 / g。

(1 分)

(c) 一本書的厚度約 25 毫米。 / mm

(1 分)

19

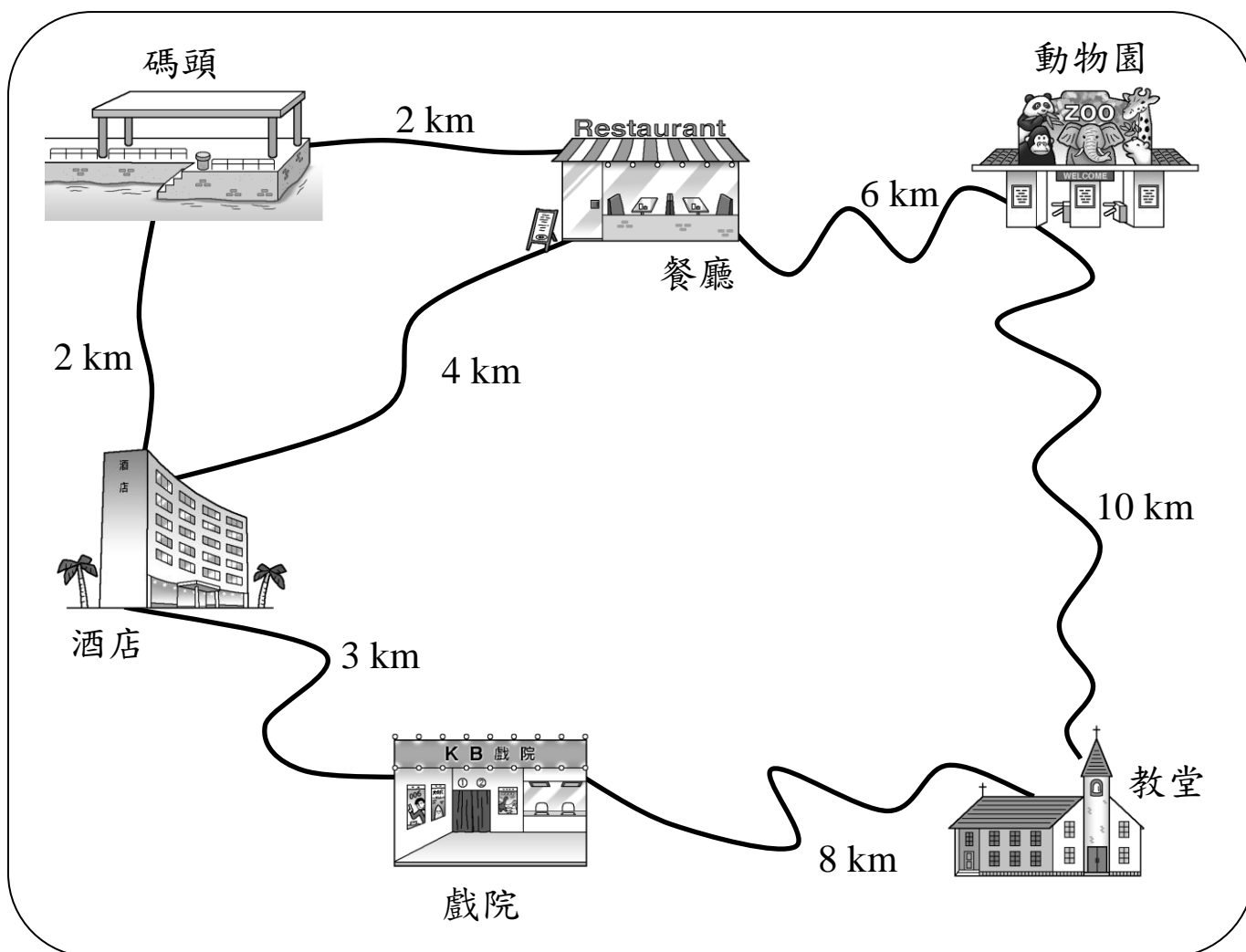


用直尺量度上圖書籤的長度。

(1 分)

答案：書籤的長度是 67 mm。

20 細閱下圖，回答下列問題。



(a) 距離酒店路程最短的地方是 碼頭。

(1 分)

(b) 從餐廳往教堂，最短的路程要走 15 km。

(1 分)

— 全卷完 —