

2 上 總結性評估

(包含二年級上學期的學習內容)

建議時間：40 分鐘

姓名：_____

班別：_____ ()

日期：_____

成績：_____ / 54

① 在 904 中，十位數字是 0，表示 0。全對才給分 (1 分)

② 用中國數字寫出「318」這個數。 (1 分)

答案：三百一十八

③ 下列是三間小學的學生人數。

	仁正小學	天晴小學	明才小學
學生人數	768	876	867

把學生人數由多至少排列出來。 (1 分)


答案：876，867，768 全對才給分
(最多) (最少)

④ 1 箱橙有 50 個。

(a) 3 箱橙有 150 個。 (1 分)

(b) 4 箱橙有 200 個。 (1 分)

(c) 7 箱橙有 350 個。 (1 分)



⑤ $419 + 272 =$ 691 (1 分)

⑥ $60 - 14 =$ 46 (1 分)

⑦ $172 + 292 + 510 =$ 974 (1 分)

⑧ $10 \times 1 = \underline{10}$ (1 分)

⑨ $7 \times 6 = \underline{42}$ (1 分)

⑩ $0 \times 9 = \underline{0}$ (1 分)

⑪ $7 \times 8 = 8 \times \underline{7}$
 $= \underline{56}$ 全對才給分 (1 分)

⑫ 在空格內填上正確的數字。

(a)
$$\begin{array}{r} \boxed{4} \quad 6 \quad \boxed{5} \\ + 4 \quad \boxed{0} \quad 4 \\ \hline 8 \quad 6 \quad 9 \end{array}$$
 (1 分)
全對才給分

(b)
$$\begin{array}{r} 7 \quad \boxed{3} \\ - \boxed{5} \quad 6 \\ \hline 1 \quad 7 \end{array}$$
 (1 分)
全對才給分

⑬ 媽媽做了 58 件茶果，送給姨媽 16 件後，再送給鄰居 23 件。以下哪道算式最適合估計餘下茶果的數量？ (1 分)

A. $50 - 20 - 20$


B. $60 - 10 - 20$

C. $60 - 20 - 20$

D. $60 - 20 - 30$

⑭ 9 的 3 倍是 27，而 3 的 9 倍是 27。全對才給分 (1 分)

⑮ 箱子裏原有 113 個乒乓球，小美再把 90 個乒乓球放入箱子裏。箱子裏現有乒乓球 203 個。 (1 分)

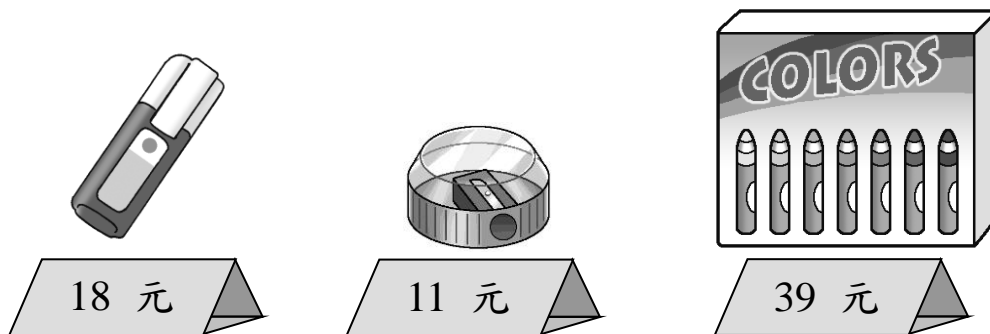
⑯  (a) 3 隻大象共有腳 12 隻。 (1 分)

(b) 7 隻大象共有 14 隻耳朵。 (1 分)

- ⑰ 遊樂場裏有 52 個小朋友在玩耍。黃昏時有 13 個小朋友回家了。遊樂場裏還有小朋友多少個？（列式計算）（3 分）

遊樂場裏還有小朋友：	或	$52 - 13$
$52 - 13$		$= 39$
$= 39$ (個)		遊樂場裏還有小朋友 39 個。

⑱



嘉欣原有 82 元，她買了一盒顏色筆和一個鉛筆刨後，餘下 32 元。（1 分）

- ⑲ 美味餐廳今天售出 252 個早餐，比午餐少 189 個，即共售出早餐和午餐多少個？（列式計算）（3 分）

即共售出早餐和午餐：	或	$252 + 252 + 189$
$252 + 252 + 189$		$= 693$
$= 693$ (個)		即共售出早餐和午餐 693 個。
	或其他合理算法	

⑳ 以下哪一項是不正確的？ (1 分)

○ A. $4 \times 9 = 9 \times 4$

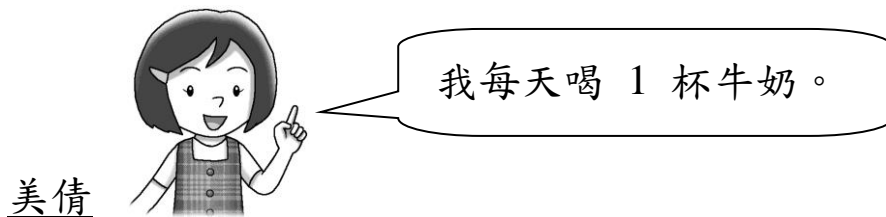
○ B. $2 \times 8 = 8$ 個 2 連加

● C. $6 + 6 + 6 + 6 + 6 = 6$ 的 6 倍

○ D. $5 + 5 + 5 = 5 \times 3$

㉑ 文傑 今年 5 歲，爸爸的年齡是他的 6 倍，爸爸今年 30 歲。 (1 分)

㉒



美倩 每星期共喝牛奶 7 杯。 (1 分)

㉓ 兩個一位數相乘的積是 15。這兩個一位數是甚麼？ (1 分)

答案：3 和 5 全對才給分

㉔ 麵包師傅每小時製作 6 盆麵包。麵包師傅在下午二時至下午五時這段時間內，共製作了麵包多少盆？

(列式計算)

(3 分)

共製作了麵包：

$$\begin{aligned} &6 \times 3 \\ &= 18 \text{ (盆)} \end{aligned}$$

或

$$\begin{aligned} &6 \times 3 \\ &= 18 \\ &\text{共製作了麵包 } 18 \text{ 盆。} \end{aligned}$$

②⑤ 根據下面八月份的月曆，回答下列各題。

八月						
日	一	二	三	四	五	六
	1	2	3	4	5	6
7	8	→ 9	→ 10	→ 11	→ 12	→ 13
14	15	16	17	18	19	20
21	22	23	24	25	26	27
28	29	30	31			

→ 旅行

- (a) 家明與家人在 8 月 9 日出發去旅行。 (1 分)
全對才給分
- (b) 家明在旅行回港後的第一個星期二開始暑期奧數班，那天是 8 月 16 日。 全對才給分 (1 分)
- (c) 七月三十日是星期 六 。 (1 分)

②⑥ 現在是上午 9 時正，55 分鐘前是
上 午 8 時 5 分。 全對才給分 (1 分)

②⑦



手錶顯示的時間比電視報時的慢了

1 小時 14 分鐘。 全對才給分 (1 分)

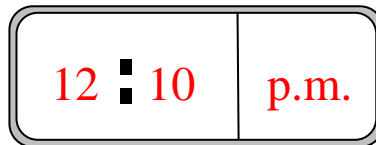
28



(a) 上面的時鐘顯示現在的時間，現在是上午 10 時 20 分。全對才給分 (1 分)

(b) 芷琳在半小時前開始看書，當時是 上 午 9 時 50 分。全對才給分 (1 分)

29 數學課在上午 11 時 30 分開始，40 分鐘後，數學課完結了。把數學課完結的時間寫在下面的數字鐘上。 (1 分)




30 以下哪一件工具最適合用來量度球場的長度？ (1 分)

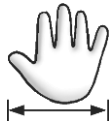
A. 直尺



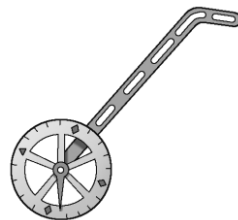
B. 捲尺



C. 手掌闊度



D. 滾輪



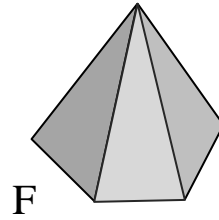
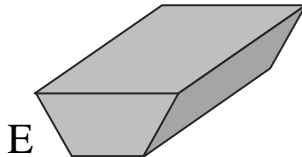
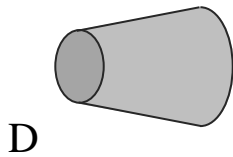
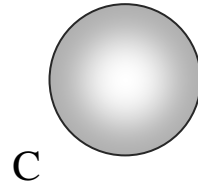
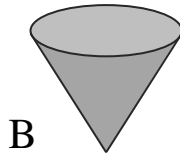
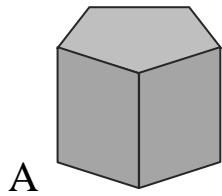
③① 在下列各項填上適當的長度單位。

(a) 一本書的闊度約是 21 厘米 / cm。 (1 分)

(b) 一棵大樹的高度約是 5 米 / m。 (1 分)

(c) 一個杯子的高度約是 10 厘米 / cm。 (1 分)

③② 根據指示，寫出所有代表答案的英文字母。

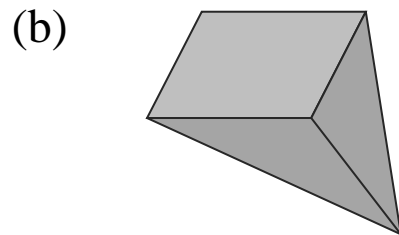
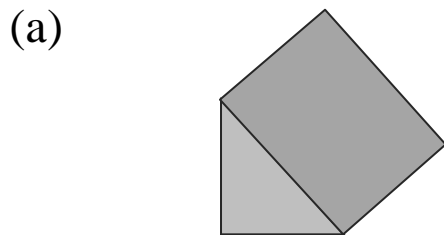


列出：

(a) 角柱： A, E 全對才給分 (1 分)

(b) 圓錐： B (1 分)

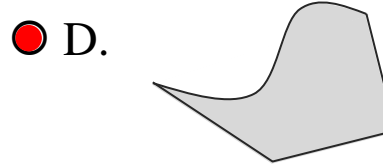
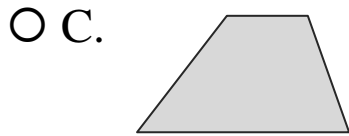
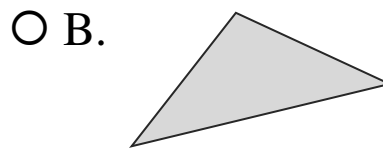
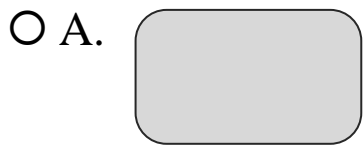
③③ 寫出以下各立體圖形的名稱。



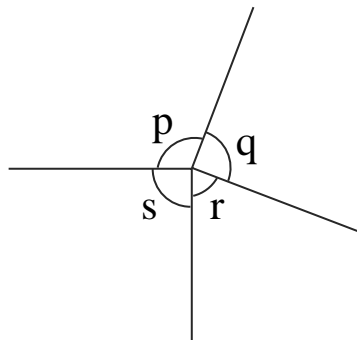
答案： 三角柱 體 (1 分)

答案： 四角錐 體 (1 分)

③4 下面哪一個平面圖形有直角？ (1 分)



③5

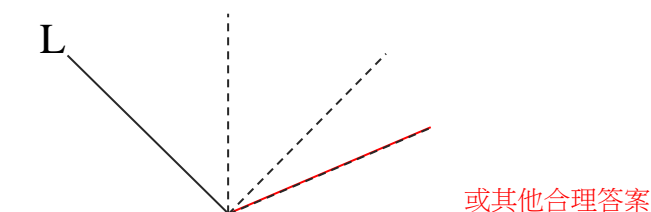


(a) 上圖中的直角是* p / **q** / r / **s** 。 (1 分)
全對才給分
 (* 圈出所有答案)

(b) 把 p、q 和 r 三個角由小至大排列出來。 (1 分)

答案： r ， q ， p 全對才給分
 (最小) (最大)

③6 在下圖中，沿虛線畫出一條直線，使它與直線 L 形成一個比直角大的角。 (1 分)



— 全卷完 —