

1 上 階段評估 (二)

(包含 1 上 A 單元 3 至 4 的學習內容)

建議時間：30 分鐘

姓名：_____

班別：_____ ()

日期：_____

成績：_____/20

①




$$\underline{6} = 4 + 2$$

$$4 + \underline{2} = 6$$

全對才給分 (1 分)


②



$$10 - 3 = \underline{7}$$

(1 分)


③



$$\underline{9} + 8 = 17$$

(1 分)

④



$$13 - \underline{8} = 5$$

(1 分)

⑤ 以下哪一組數可合成 12?

(1 分)

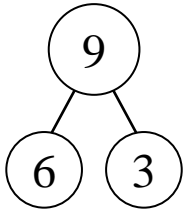
A. 6 和 5

B. 8 和 5

C. 4 和 7

D. 9 和 3

⑥



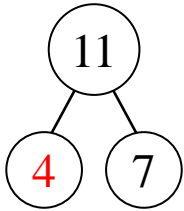
$$6 + \underline{3} = 9$$

$$9 - \underline{6} = 3$$

全對才給分

(1 分)

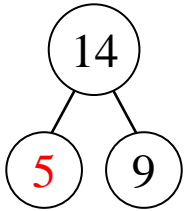
⑦



$$11 - \underline{4} = 7$$

(1 分)

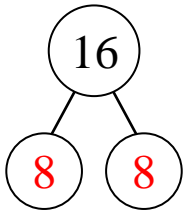
⑧



$$\underline{5} + 9 = 14$$

(1 分)

⑨




$$\underline{8} + \underline{8} = 16$$

或其他合理答案

(1 分)

⑩

把 8 個  分成兩份，可怎樣分？

(1 分)


A. 1 個和 8 個

B. 5 個和 4 個

C. 3 個和 5 個

D. 7 個和 2 個

⑪












選用上面其中兩張數字卡，合成結果是最大的單數。

答案：9 + 6 = 15 全對才給分

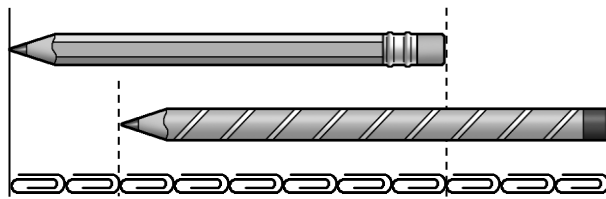
(1 分)








12



- (a) *  /  /  /  最高。(* 圈出答案) (1 分)
- (b) 距離  最近的是 *  /  /  。 (1 分)
- (* 圈出答案)

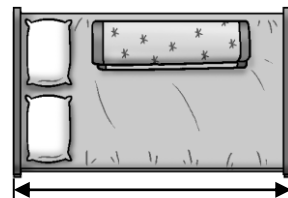
13



- (a)  的長度約是 8 個  。 (1 分)
- (b)  的長度約是 9 個  。 (1 分)
- (c)  比 
 * 長 / 短 1 個  。 (* 圈出答案) 全對才給分 (1 分)

14

以下哪件物件最適合作為自訂單位來量度睡牀的長度？



(1 分)

○ A.



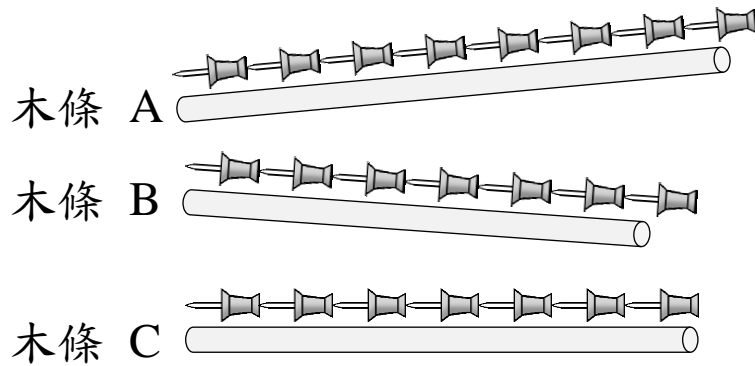
○ B.



● C.



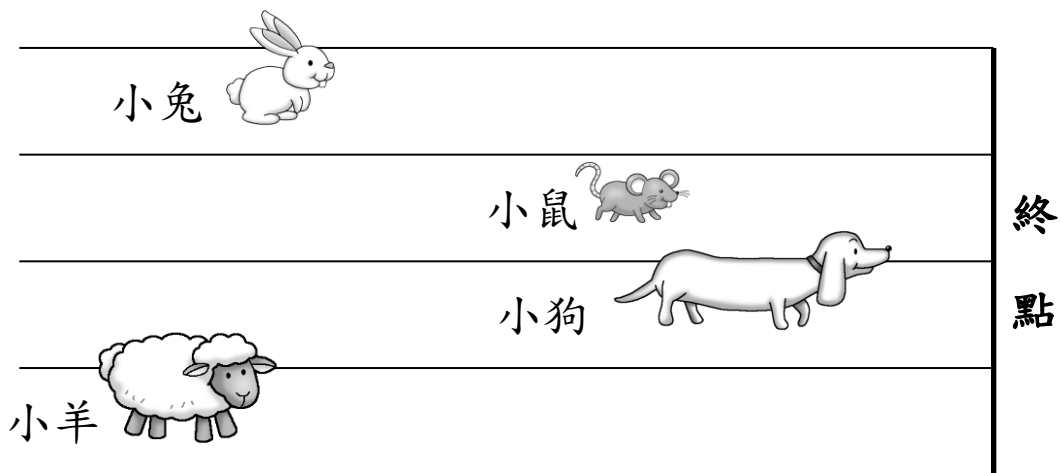
⑮



比較以上三枝木條的長度，

最長的是木條 * **A** / B / C 。（* 圈出答案）（1 分）

⑯ 現在正進行動物跑步比賽。



(a) 距離終點最遠的是

* 小鼠 / 小兔 / 小狗 / **小羊** 。（* 圈出答案）（1 分）

(b) 距離小鼠最近的是

* 小兔 / **小狗** / 小羊 。（* 圈出答案）（1 分）

— 全卷完 —

19TEST110.2T
19TEST110.2S