

1 上 階段評估 (四)

(包含 1 上 B 單元 7 至 8 的學習內容)

建議時間：30 分鐘

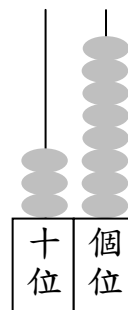
姓名：_____

班別：_____ ()

日期：_____

成績：_____/23

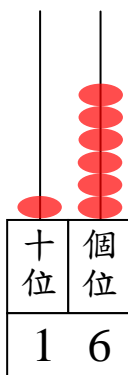
① 右圖算柱所表示的數是 38。



(1 分)

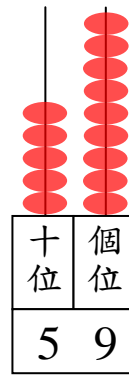
② 依數目畫算珠。

(a)



(1 分)

(b)



(1 分)

③ 在 84 這個數裏，數字「4」是在 個 位。

(1 分)

④ 在 75 這個數裏，數字「7」表示 * 7 / 70。

(1 分)

(* 圈出答案)

⑤ 最小的兩位數是 10。

(1 分)

⑥ 最大的兩位數是 99。

(1 分)

⑦ 在橫線上填上「>」或「<」。

(a) 23 < 32 (1 分)

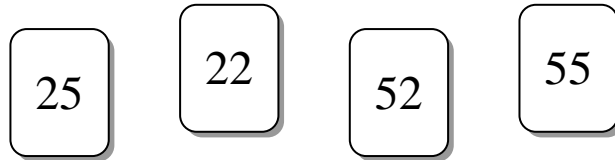
(b) 55 > 45 (1 分)

(c) 67 > 61 (1 分)

⑧ 把 49 ， 64 ， 44 由小至大排列。

答案：44，49，64 全對才給分 (1 分)
(最小) (最大)

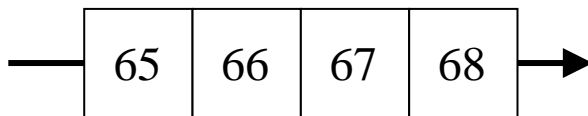
⑨



把上面的數由小至大排列。 (1 分)

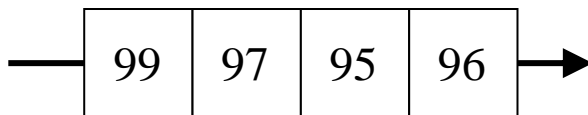
答案：22，25，52，55 全對才給分
(最小) (最大)

⑩



這是 * 順數 / 倒數。(* 圈出答案) (1 分)

⑪



這 * 是 / 不是 倒數。(* 圈出答案) (1 分)

⑫ 以下哪一項是正確的？ (1 分)

○ A. 100 以內的雙數，個位的數字是 1、3、5、7 或 9。

● B. 100 以內的雙數，個位的數字是 2、4、6、8 或 0。

○ C. 100 以內的單數，十位的數字是 1、3、5、7 或 9。

○ D. 100 以內的單數，十位的數字是 2、4、6、8 或 0。

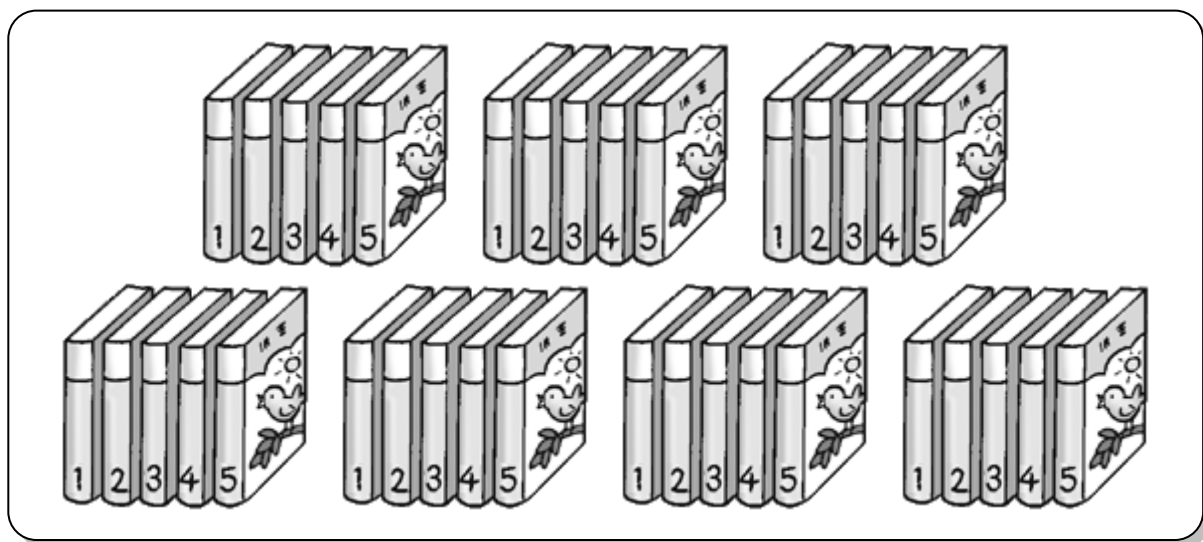
⑬ 依規律填填看。

(a) 15, 20, 25, 30, 35, 40 全對才給分 (1 分)

(b) 83, 81, 79, 77, 75, 73 全對才給分 (1 分)

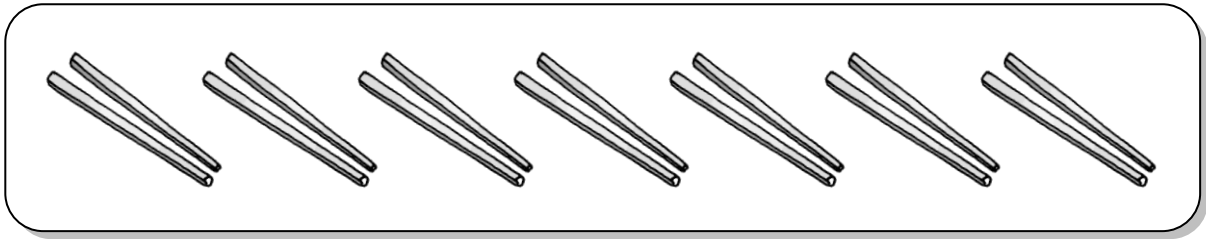
(c) 99, 89, 79, 69, 59, 49 全對才給分 (1 分)

⑭



每 5 本一數，共有圖書 35 本。 (1 分)

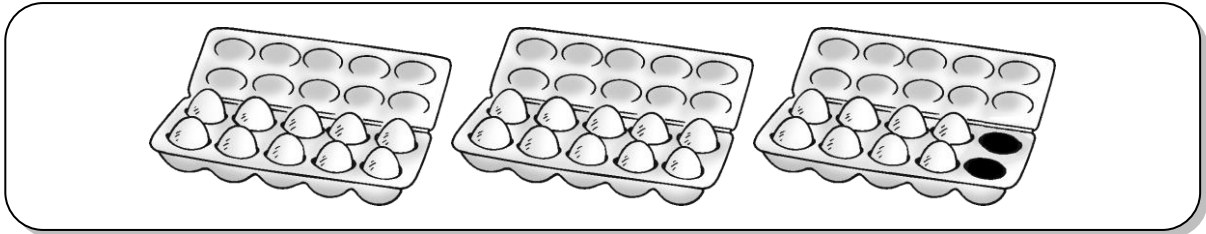
⑮



每 2 支一數，共有筷子 14 支。

(1 分)

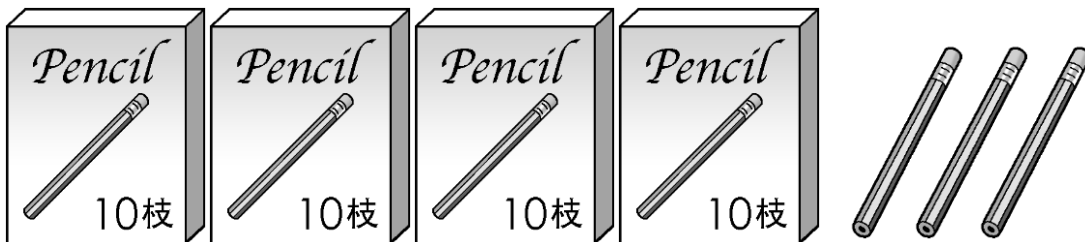
⑯



每 10 隻一數，共有蛋 28 隻。

(1 分)

⑰

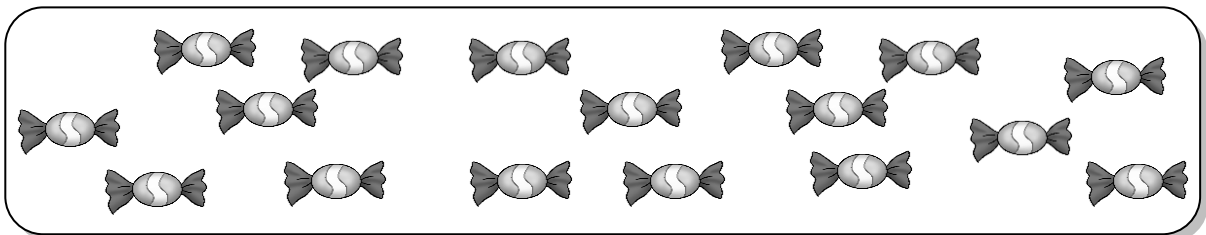


每盒有鉛筆 10 枝，以每 10 枝一數，

上圖共有 43 枝鉛筆。

(1 分)

⑱



每 * 2 / 5 / 10 粒一數，

共有糖果 17 粒。(*圈出答案)

(1 分)

— 全卷完 —

19TEST110.4T
19TEST110.4S