

1 上 總結性評估

(包含一年級上學期的學習內容)

建議時間：40 分鐘

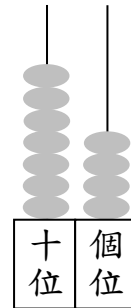
姓名：_____

班別：_____ ()

日期：_____

成績：_____ / 47

- ① (a) 圖中算柱表示的數是 74，
讀作 七十四。每個答案 1 分



(2 分)

- (b) 十位的數字是「7」，
表示 70。全對才給分

(1 分)

- ② 圈出答案。



這是 * 順數 / 倒數。

(1 分)



這是 * 順數 / 倒數。

(1 分)



這些數都是 * 單數 / 雙數。

(1 分)

- ③ 依規律填填看。

(a) 2, 4, 6, 8, 10, 12 全對才給分

(1 分)

(b) 55, 53, 51, 49, 47, 45 全對才給分

(1 分)

(c) 20, 25, 30, 35, 40, 45 全對才給分

(1 分)

④ 圈出答案。

(a) 14 比 40 (小 / 大)。 (1 分)


(b) 78 比 75 (小 / 大)。 (1 分)

⑤ 以下哪一組數是由大至小排列？ (1 分)

○ A. 27, 32, 46, 53 ○ B. 27, 46, 53, 32

● C. 53, 46, 32, 27 ○ D. 53, 32, 46, 27

⑥



根據上面的數卡回答。

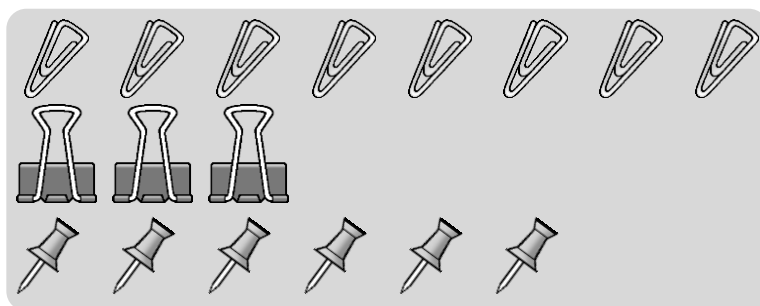
(a) 寫出所有單數：11, 13, 19 全對才給分 (1 分)




(b) 比 17 小的數有：11, 13, 14 全對才給分 (1 分)

(c) 比 15 大但比 20 小的雙數有：18 (1 分)

⑦ 最小的兩位單數是 11，最大的兩位雙數是 98。 (2 分)
每個答案 1 分

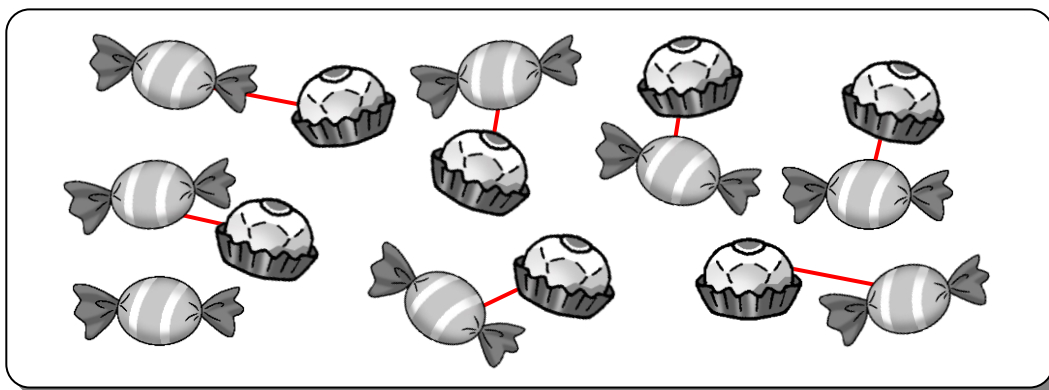
⑧ 姐姐有以下三種文具。



(a) *  /  /  最多。 (* 圈出答案) (1 分)

(b)  和  共有 14 個。 (1 分)

9




(a)  有 7 粒。 (1 分)

(b) 一個配對一個地連起來，

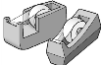


 比  * 多 / 少 1 粒。 (* 圈出答案) (1 分)
全對才給分

10 下面是視覺藝術室儲物櫃存放的物品。



第一層第四格的物品是 。

(a)  放在第 三 層第 一 格。全對才給分 (1 分)

(b) 放在第二層第三格的是 *  /  / 。 (1 分)
(* 圈出答案)

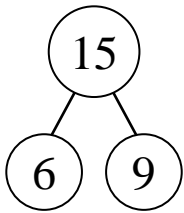
11



(a) 上圖中有 11 人在排隊等候小巴。 (1 分)

(b) 有 3 人上車後，現在家明排第 五。 (1 分)

12




$$6 + \underline{9} = 15$$

$$15 - \underline{6} = 9$$

全對才給分

(1 分)

13 把 14 個  分成兩份，可怎樣分？ (1 分)

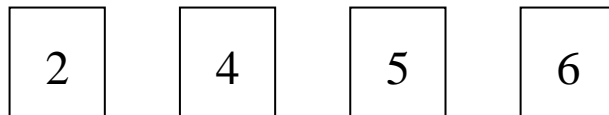
A. 6 個和 7 個

B. 7 個和 8 個

C. 9 個和 5 個

D. 8 個和 8 個

14

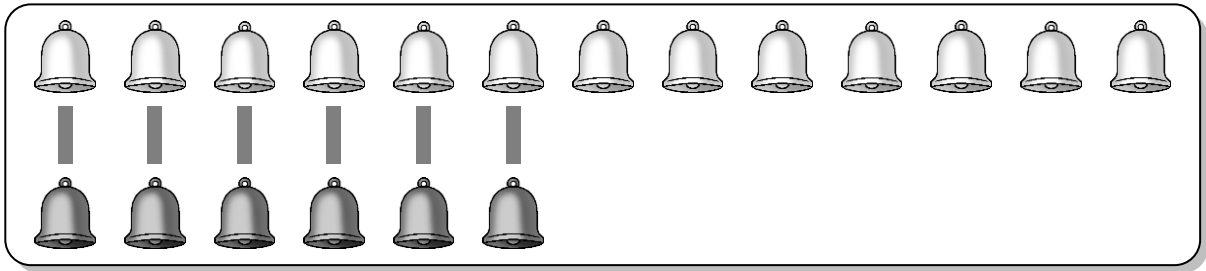


在上面的數卡中，選用其中三張，填在下面橫線上。 (1 分)

4 和 2 合成 6 全對才給分

或 2 和 4 合成 6

⑮




比 多 7 個。

$$\boxed{13} - \boxed{6} = \boxed{7} \quad (1 \text{ 分})$$

全對才給分

⑯



共有 \triangle 和 \bigcirc 17 個。

$$\boxed{9} \oplus \boxed{8} = \boxed{17} \quad (1 \text{ 分})$$

或 $8 + 9 = 17$

全對才給分

⑰

$$4 + 4 = \underline{8}$$

(1 分)

⑱

$$8 + 5 = \underline{13}$$

(1 分)

⑲

$$18 - 9 = \underline{9}$$

(1 分)

⑳

$$13 - 13 = \underline{0}$$

(1 分)

㉑

樹上原有 9 隻 ，飛來 3 隻 後，樹上現有

9 隻 。


(1 分)


㉒


家裏有 19 隻蛋，用去全部蛋後，餘下蛋 0 隻。

(1 分)

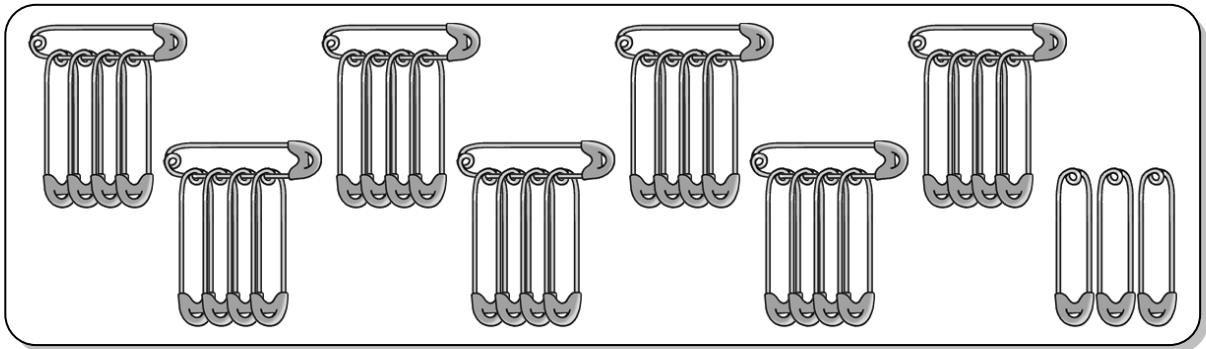
23



(a) 把  每 5 隻一圈，共有 24 隻。全對才給分 (1 分)

(b)  的數目是 * 單數 / 雙數。(* 圈出答案) (1 分)

24




每 5 個一數，共有扣針 38 個。 (1 分)

25 一籃網球，以每 2 個一數後，餘下 1 個。以下哪一項不可能是這籃網球的數量？ (1 分)

- A. 11 個 ○ B. 17 個
 C. 22 個 ○ D. 25 個

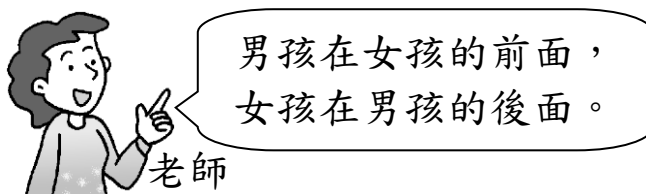
26 打開一本書，第十三頁是左頁。
 那麼第十二頁是 * 左頁 / 右頁。
 (* 圈出答案)




(1 分)

27 以下哪一幅圖符合老師的描述？


(1 分)




○ A.




● B.



○ C.




○ D.



28

洪先生 黃先生 陸小姐



陸小姐坐在 * 左面 / 右面。 (* 圈出答案)

(1 分)

29

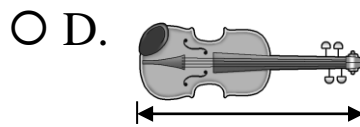
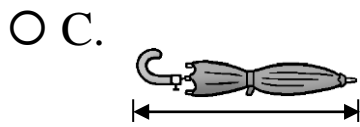
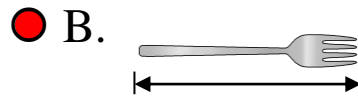
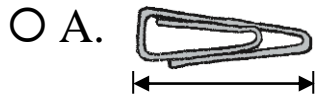
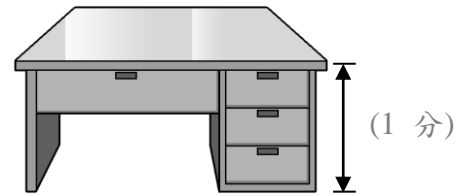


爸爸坐在兒子的 * 上面 / 下面 / 前面 / 後面。

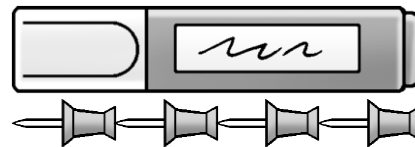
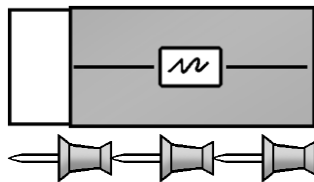
(1 分)


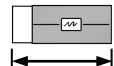

(* 圈出答案)

③⑩ 以下哪件物件最適合作為自訂單位來量度書枱的高度？



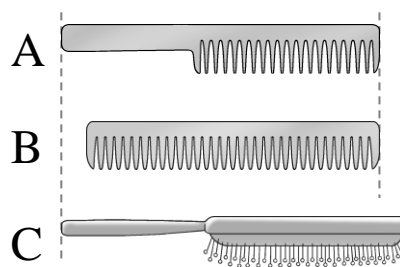
③⑪



 比  * 長 / 短 1 個  。 全對才給分 (1 分)

(* 圈出答案)

③⑫ 比較以下三把梳子的長度，把它們由長至短排列 (填寫代表答案的英文字母)。(1 分)



答案：C，A，B 全對才給分
(最長) (最短)

— 全卷完 —

19TEST110.5T
19TEST110.5S