

1 下 階段評估 (一)

(包含 1 下 A 單元 1 至 2 的學習內容)

姓名：_____

班別：_____ ()

日期：_____

成績：_____/ 18

建議時間：30 分鐘

①



時針指着 11，

分針指着 12，

時間是 11 時正。全對才給分 (1 分)

②



時針指着 12 和 1 中間，

分針指着 6，


時間是 12 時半。全對才給分 (1 分)

③ 以下哪一個鐘面顯示的時間是 2 時正？ (1 分)

A.




B.



C.



D.



④ 下面鐘面顯示的時間是 _____。

(1 分)



A. 3 時正

B. 3 時半

C. 4 時正

D. 4 時半

⑤ 一位保安員由 10 時正工作至 6 時正。以下哪一個鐘面顯示保安員工作中的時間？

(1 分)

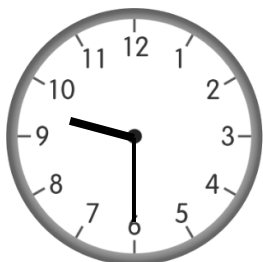
A.




B.



C.



D.



⑥ 陳先生工作了 4 小時，張先生的工作時間比陳先生的長。以下哪一個可能是張先生的工作時數？

(1 分)


A. 2 小時

B. 3 小時

C. 4 小時

D. 5 小時

⑦ 下面的鐘面顯示婷婷練習鋼琴的時間。



開始時間




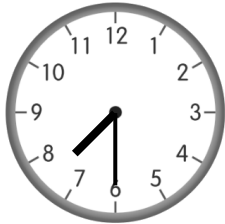
結束時間

(a) 她在 3 時正 開始練習。 (1 分)

(填寫時間)

(b) 她練習了 1 小時。 (1 分)

⑧ 下面是電視節目的播放時間表：

電視節目	開始播放的時間
	

「新聞報道」播放了 1 小時，在 8 時半 完結。 (1 分)


(填寫時間)




⑨ 如果昨天是星期六，
今天是星期 日。 (1 分)

⑩ 如果今天是星期一，
* 昨天 / 明天 是星期日。 (* 圈出答案) (1 分)

⑪ 樂怡記錄了過去一星期的天氣。

星期日	星期一	星期二	星期三	星期四	星期五	星期六
						

(a) 星期 日 和星期 二 的天氣是 。每個答案 1 分 (2 分)

(b) 星期五的天氣是 *  /  / 。 (1 分)
(* 圈出答案)

⑫ 根據月曆回答下列問題。

八月						
日	一	二	三	四	五	六
	1	2	3	4	5	6
7	8	9	10	11	12	13
14	15	16	17	18	19	20
21	22	23	24	25	26	27
28	29	30	31			

(a) 月曆顯示的是 八 月，下一個月是 九 月。 (2 分)
每個答案 1 分

(b) 8 月 20 日是星期 六。 (1 分)

(c) 婷婷參加了游泳班，逢星期三上課。

在八月她共有 5 堂游泳班。 (1 分)