

1 下 階段評估 (四)

(包含 1 下 B 單元 8 至 9 的學習內容)

建議時間：30 分鐘

姓名：_____

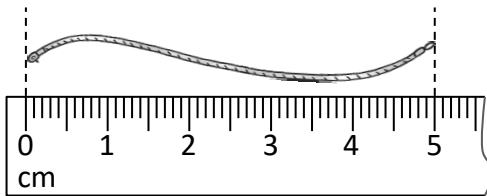
班別：_____ ()

日期：_____

成績：_____/21

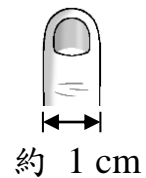
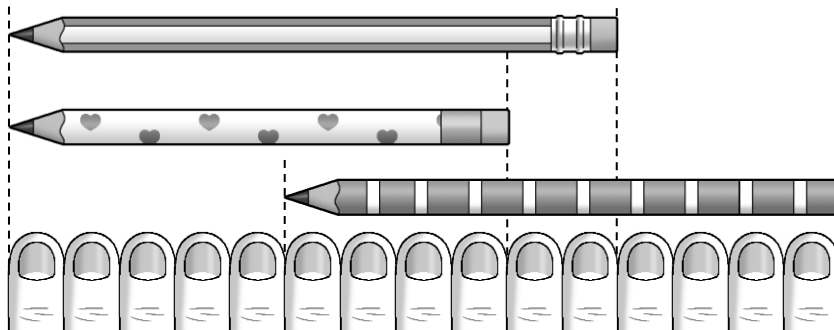
① 圖中繩子的長度






(1 分)



- A. 比 4 cm 短。
- B. 比 5 cm 短。
- C. 是 5 cm。
- D. 比 5 cm 長。

②



- (a)  的長度約是 11 cm。 (1 分)
- (b)  的長度約是 10 cm。 (1 分)
- (c) *  /  / 

最短。(* 圈出答案)

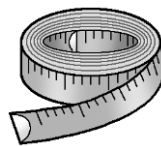
(1 分)

③ 以下哪一項最適合用來量度爸爸的腰圍？

(1 分)

A. 直尺

B. 軟尺

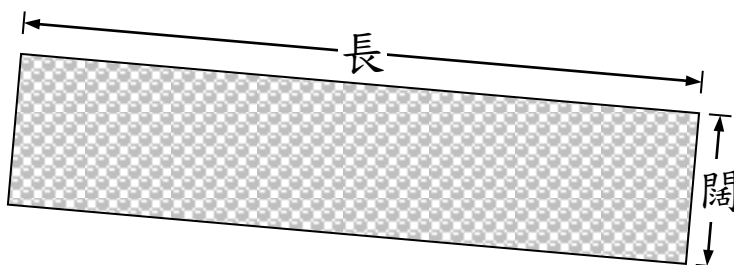


C. 拇指的闊度

D. 腳掌的長度



④ 下圖是一張紙條，用直尺量度它的長度和闊度。

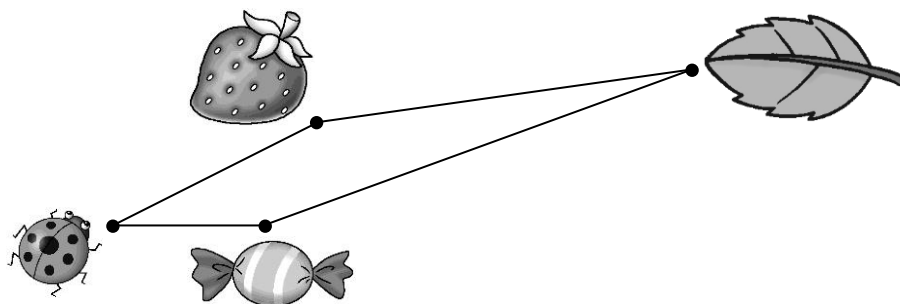




紙條的長度是 9 厘米，



它的長度與闊度相差 7 厘米。 每個答案 1 分

(2 分)


⑤



(a) 用直尺量度  與  之間的距離是 2 cm。 (1 分)

(b)  從  爬到 ，最少爬了 5 cm。 (1 分)

⑥



(a) 用直尺量一量，上面書籤的長度約是多少 cm？ (1 分)

答案：8 cm

(b) 書籤的外形是哪一種平面圖形？ (1 分)

A. 三角形 B. 四邊形

C. 五邊形 D. 圓形

⑦ 1 元 = 10 角 (1 分)

⑧ 以下哪一個是幣值最大的金色硬幣？ (1 分)



⑨

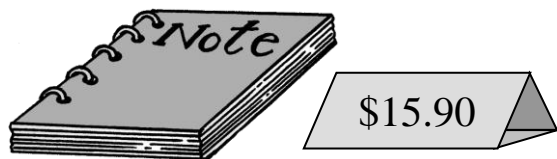


上面硬幣的總值是 12 元 9 角。全對才給分 (1 分)

⑩ 1 個  可換成 2 個 。 (1 分)

⑪ 2 個  可換成 10 個 。 (1 分)

12



一本筆記簿的售價是 15 元 9 角。全對才給分 (1 分)

13 以下是志榮購買玩具車的款項。



(a) 志榮用了 3 個 1 元硬幣。 (1 分)

(b) 玩具車的售價是 15 元 8 角。全對才給分 (1 分)

14



(a) 一包薯片的售價是 9 元 6 角。全對才給分 (1 分)

(b) 志榮購買一包花生，圈出他所需的款項。 (1 分)



— 全卷完 —

或其他合理答案
19TEST120.4T
19TEST120.4S