

聖公會將軍澳基德小學

「全方位主題學習」(2017-2018)

# 香港放大鏡



班別：四年級\_\_\_班 姓名：\_\_\_\_\_ ( )

### 活動時間表

	15/1/18 星期一	16/1/18 星期二	17/1/18 星期三	18/1/18 星期四			
8:05-8:20	早禱						
8:20-8:30	班主任時間						
8:30-9:40 (70分鐘)	4A	簡介	4A	數字解碼	4A	大搜查(圖書館)	
	4B		4B	數字解碼	4B	參觀後製作簡報 (語言室)	
	4C		4C	香港十八區	4C	參觀後製作簡報 (電腦室)	
	4D		4D	香港地理全接觸	4D	Welcome to Hong Kong	
9:40-9:50	小息		小息				
9:50-11:00 (70分鐘)	4A	香港名稱的由來	外出參觀 (海防博物館)	4A	Welcome to Hong Kong	4A	參觀後製作簡報 (語言室)
	4B	香港名稱的由來		4B	香港十八區	4B	大搜查(圖書館)
	4C	地圖密碼		4C	我的地圖	4C	香港地理全接觸
	4D	地圖密碼		4D	我的地圖	4D	參觀後製作簡報 (電腦室)
11:00-11:20	小息		小息				
11:20-12:30 (70分鐘)	4A	環保講座 (禮堂)	4A	香港十八區	4A	我的地圖	
	4B		4B	香港地理全接觸	4B	Welcome to Hong Kong	
	4C		4C	Welcome to Hong Kong	4C	大搜查(圖書館)	
	4D		4D	數字解碼	4D	香港十八區	
12:30-1:30	午膳						
1:30-2:30 (60分鐘)	4A	地圖密碼	4A	午膳+短片觀 賞 調景嶺的變遷	4A	香港地理全接觸	
	4B	地圖密碼	4B		4B	我的地圖	
	4C	香港名稱的由來	4C		4C	數字解碼	
	4D	香港名稱的由來	4D		4D	大搜查(圖書館)	
2:30-3:00 (30分鐘)	4A	總結	4A	總結	4A	總結	
	4B		4B				
	4C		4C				
	4D		4D				
3:00-3:15 (15分鐘)	班主任時間		班主任時間				

# 目錄

題目	頁數
香港地理全接觸	P. 1
我的地圖	P. 2
參觀海防博物館	P. 3-4
香港十八區	P. 5
景點介紹 Welcome to Hong Kong	P. 6-8
地圖密碼	P. 9-10
數字解碼	P. 11-13
香港名稱的由來	P. 14
調景嶺的變遷	P. 15-16
圖書大搜查	P. 17
學習日誌	P. 18-21

## 香港地理全接觸

### I. 香港地理資料

香港位處中國東南端的珠江口岸，面向南中國海。香港的總面積有 1,104 平方公里，由香港島、九龍半島和新界組成，連同水域總面積為 2755.03 平方公里，根據 2014 年年中統計，人口約有 7,234,800 人。


香港境內有很多山脈，其中大帽山及鳳凰山更超過九百米高，而七百米以上高的高山亦有六座。香港有多達二百三十五個大小島嶼，最大的大嶼山比香港島更大。為了保護大自然，及向市民提供郊野的康樂和教育設施，香港境內設有二十三個郊野公園。

### II. 六十分鐘環遊香港

讓我們一起欣賞香港的海灣、河流、山脈、島嶼、海岸公園、特別地區、具特殊科學價值地點、防衛設施及法定古蹟。

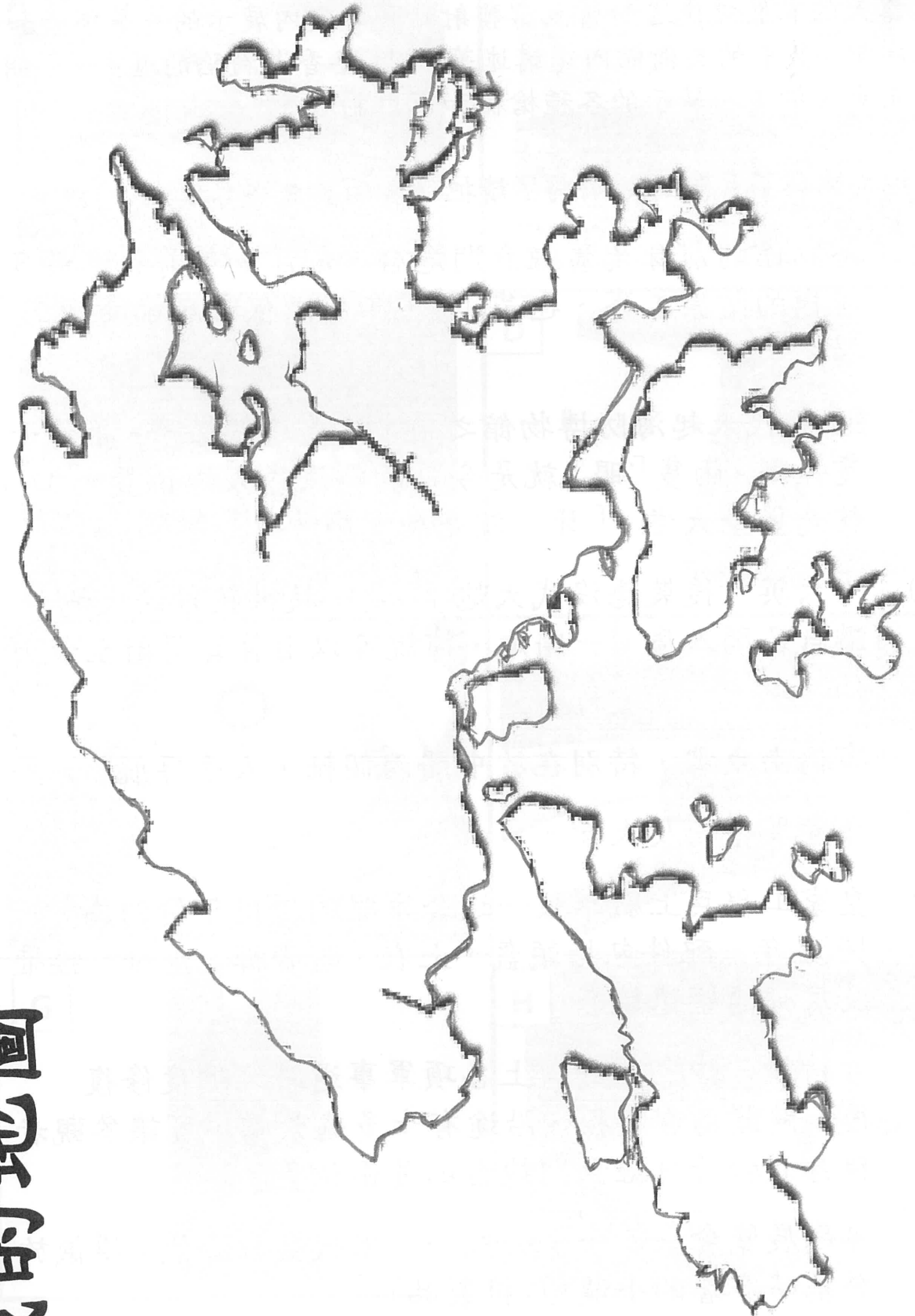
### III. 我愛香港

畫出一處你最喜歡的地方。



原因：\_\_\_\_\_

## 我的地圖




## 香港海防博物館

海防博物館的地點有些偏僻，但是一家值得參觀的博物館。原來，古炮臺是用來保衛東海岸至維多利亞港的地區。在這兒可以欣賞到絕妙景觀：露天的有歷史棧道和舊魚雷發射站臺，室內展示的有舊堡壘和當地海洋史，其中的美術館內還講述著 1941 年香港淪陷的歷史。小朋友們一定會喜歡裏面展示各種槍械和軍用制服。

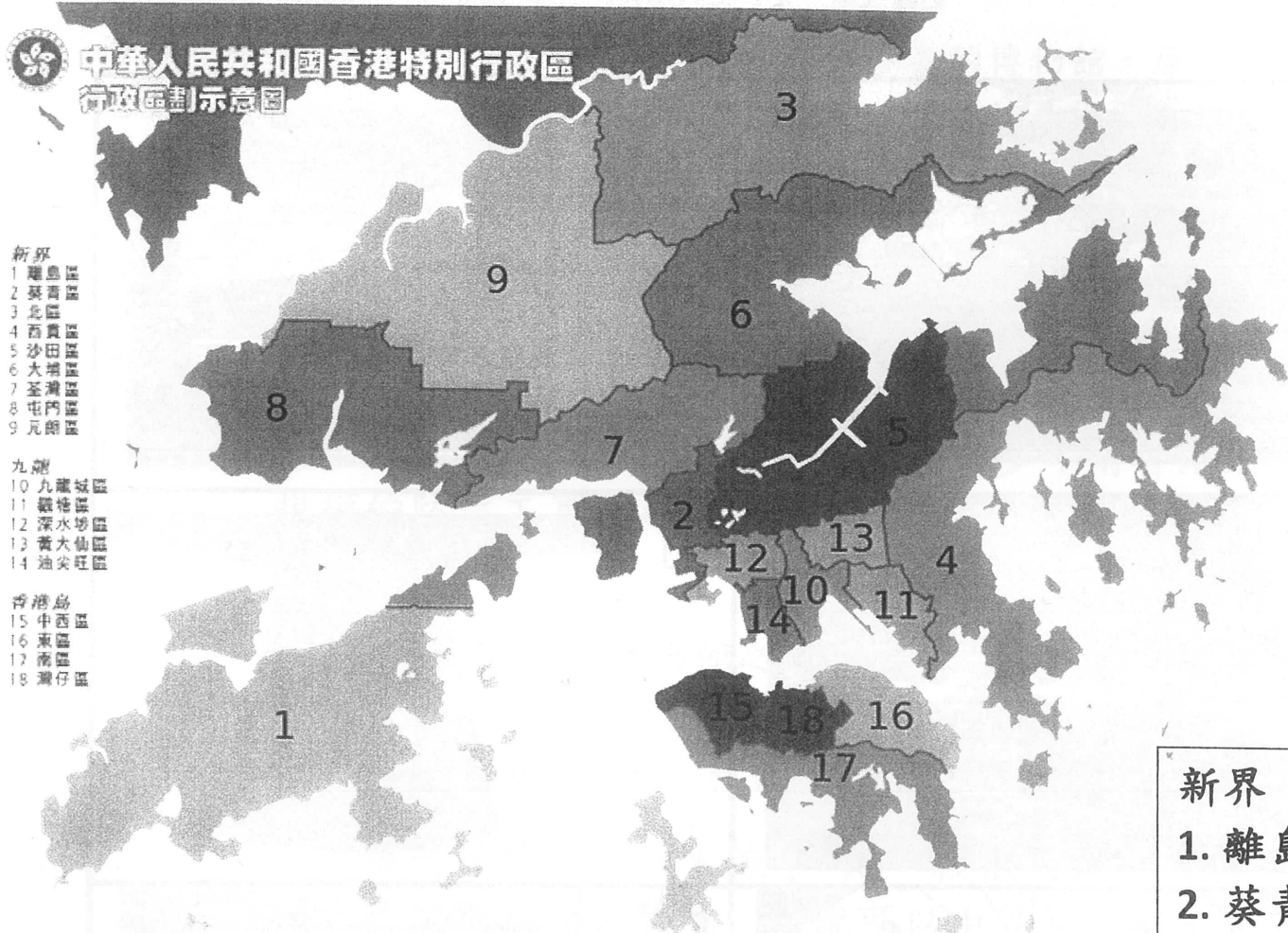
▼你能把描述與圖片配對起來嗎？請把適當的英文字母填在( )內。

1. ( ) 博物館的前身是舊鯉魚門炮台，是百多年前香港最具規模的防禦工事，也是 1941 年香港保衛戰的重要戰場之一。
2. ( ) 90 年代末起海防博物館之前，就是這個樣子，很像一隻怪獸。兩隻「眼」就是今日的隱沒式大炮位置，「口」就是堡壘大堂。「牙」就是展覽廳。
3. ( ) 「六英吋後裝隱沒式大炮」，是一枝很狡猾的大炮，識自己閃入盾。一開炮，據說可以由筲箕灣射至黃大仙。
4. ( ) 布倫南魚雷，特別在於中間兩個軸，人手導航。
5. ( ) 堡壘展覽廳及大堂。
6. ( ) 皇家工程兵上尉軍服——這套軍服的使用年份約為 1902 年，配件包括頭盔、上衣、蹬帶褲、皮靴、腰帶及肩帶連望遠鏡套。
7. ( ) 古蹟徑——鯉魚門岬角上各項軍事遺蹟經適度修復後，開闢為古蹟徑，沿途有十多處景點，可讓參觀者親身體驗昔日鯉魚門炮台的要衝位置。
8. ( ) 專題展覽會——天子·公民——末代皇帝溥儀：溥儀於登基時穿著的小龍袍(複製品)

## 香港海防博物館



# 香港十八區



- 新界  
 1 離島區  
 2 葵青區  
 3 北區  
 4 西貢區  
 5 沙田區  
 6 大埔區  
 7 荃灣區  
 8 屯門區  
 9 元朗區
- 九龍  
 10 九龍城區  
 11 觀塘區  
 12 深水埗區  
 13 黃埔區  
 14 油麻地
- 香港島  
 15 中西區  
 16 東區  
 17 南區  
 18 灣仔區

請填上正確的答案

- 西貢區位於地圖上的\_\_\_\_\_。(請寫上數字)
- 觀塘區位於地圖上的\_\_\_\_\_。(請寫上數字)
- 沙田區位於地圖上的\_\_\_\_\_。(請寫上數字)
- 新界分為\_\_\_\_\_個區，包括\_\_\_\_\_，\_\_\_\_\_，\_\_\_\_\_，\_\_\_\_\_。
- 九龍分為\_\_\_\_\_個區，包括\_\_\_\_\_，\_\_\_\_\_，\_\_\_\_\_。
- 香港島分為\_\_\_\_\_個區，包括\_\_\_\_\_，\_\_\_\_\_。

## 新界

- 離島區
- 葵青區
- 北區
- 西貢區
- 沙田區
- 大埔區
- 荃灣區
- 屯門區
- 元朗區

## 九龍


- 九龍城區
- 觀塘區
- 深水埗區

# Welcome to Hong Kong

Date: \_\_\_\_\_

The following events are the festive activities in Hong Kong. Match the pictures with the words. Put the correct numbers in the boxes.

- Go to a church
- Lion Dance
- Bun snatching
- Fire Dragon Dance
- Fireworks
- Play with lanterns
- Visit a temple
- Countdown
- Parade



ALL ABOUT \_\_\_\_\_

☆☆☆ — ☆☆☆

Traditions

Food

~ Other Facts ~

---

---

---

---

---

---

---

---

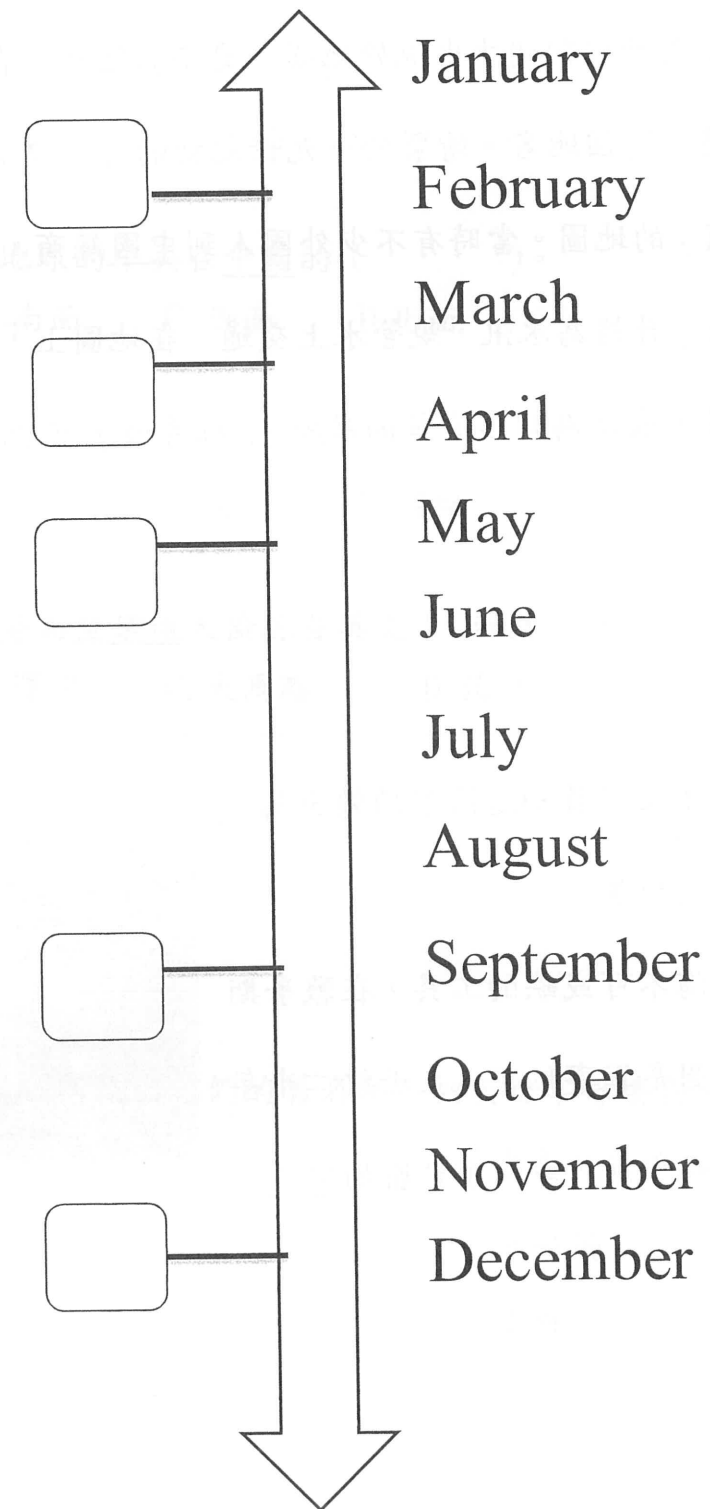
---

---

Celebrations

1. Easter
2. Christmas
3. Tai Hang Fire Dragon
4. The Cheung Chau Bun Festival
5. Chinese New Year


Timeline Title: \_\_\_\_\_



## 地圖密碼

一張一張平面好像是過時的古地圖，是隱藏著歷史密碼的寶圖。

本活動希望透過短片，讓同學透過地圖認識香港的發展。



### 香港在地圖上出現的歷史：

「香港」這地名在十九世紀初期才出現於地圖，更早的地圖，在現今香港島的位置只寫上「紅香爐」這個地名。繪製於十九世紀初的《五口沿海水路圖》，是最早標註有「紅香爐」的地圖。當時有不少外國人到中國經商，並進行走私活動。清政府將「紅香爐」升格為水汛，規管水上交通。在地圖上「紅香爐」的位置，畫上了欄桿及房屋，表示為朝廷官員的居所。「紅香爐」在現在香港島的東面，近銅鑼灣的位置。

### 地圖的作用：

1. 古代地圖讓皇帝及官員知道國家的領土及不同地方的相對位置。
2. 精密地圖是航海不可或缺的工具，在戰爭期間，精確的地圖是軍事秘密。上世紀二十年代日本為了侵略中國，繪劃了精密的中國地圖。



欣賞短片後，請完成以下問題：

一、選出適當的答案，把英文字母寫在（ ）內。

1. 香港最早出現在地圖上的時間是（ ）。  
A. 十八世紀初 B. 十九世紀初 C. 二十世紀初 D. 二十一世紀初
2. 古地圖在香港的地方出現的名字是（ ）。  
A. 紅磡 B. 紅香杯 C. 紅香爐 D. 紅香港
3. 在古代，中國人認為地是（ ）。  
A. 平的 B. 凹凸不平 C. 圓的 D. 方的
4. 古代中國認為地球的中央在中國的（ ）。  
A. 東面 B. 南面 C. 西面 D. 北面
5. 日本繪劃精密的中國地圖目的是為了（ ）。  
A. 旅遊 B. 探險 C. 交流 D. 侵略
6. 短片中介紹香港島堅拿道天橋源自英文「Canal」，指（ ）。  
A. 天橋 B. 運河 C. 大馬路 D. 海灣

二、在橫線上填寫正確的地方名稱。

1. 在短片中出現的紅江是指現在的\_\_\_\_\_；  
九弄是指現在的\_\_\_\_\_。

三、古今地名對對碰：找出它們的舊名字，把英文字母填在（ ）內。

- |                |     |               |
|----------------|-----|---------------|
| A. 添馬艦         | ( ) | 高街舊精神病院 (顛狂院) |
| B. 前英軍三軍總司令的官坭 | ( ) | 水師船塢          |
| C. 社區中心        | ( ) | 將軍府           |

## 數字解碼

目的：利用不同的數據，從側面了解我們居住的香港。

進入網站，搜尋資料填寫答案：



(一) 香港的面積：

地政總署測繪處—香港陸地及海面面積

<http://www.landsd.gov.hk/mapping/tc/publications/total.htm>

1. 香港島及鄰近島嶼合計面積：\_\_\_\_\_平方公里。
2. 九龍半島面積：\_\_\_\_\_平方公里。
3. 新界、大嶼山及其他島嶼合計面積：\_\_\_\_\_平方公里。
4. 香港陸地總面積：\_\_\_\_\_平方公里。
5. 維多利亞海港面積：\_\_\_\_\_平方公里。
6. 香港水陸總面積：\_\_\_\_\_平方公里。

(二) 香港地理：

維基百科—香港地理

<https://zh.wikipedia.org/wiki/%E9%A6%99%E6%B8%AF%E5%9C%B0%E7%90%86>

6

1. 地理位置：

香港位處中國\_\_\_\_\_沿岸，北靠\_\_\_\_\_省、西背\_\_\_\_\_及澳門、南望南中國海，介乎北緯\_\_\_\_\_至 35'、東經\_\_\_\_\_至 114°31' 之間，所處時區比世界協調時間快\_\_\_\_\_小時。

2. 地質史：

香港的地質主要由火成岩、沉積岩及花崗岩構成，其中花崗岩佔香港總面積約\_\_\_\_\_。

3. 地貌：

香港境內山多平地少，是一座受到海水淹沒的多山地體。香港約有\_\_\_\_\_平方公里（即約 60%陸地總面積）屬天然山坡，約 20%的土地為大於

／等於 30° 的陡峭斜坡。山脈走向為東北——西南，其中以新界中部的大帽山（\_\_\_\_\_m）為第一高峰向多方面伸延；西南面大嶼山島上的鳳凰山（\_\_\_\_\_m）及大東山（\_\_\_\_\_m）則為另一條主要山。

香港共有\_\_\_\_\_個島嶼。眾島嶼以大嶼山面積最大，其次是香港島。香港島以南的鴨脷洲則是全球人口第二稠密的島嶼；另一方面亦有不少無任何常住居民的小島。

4. 板塊：

香港位處\_\_\_\_\_板塊之內，遠離板塊邊緣\_\_\_\_\_公里，因此發生強烈地震機會甚微。香港境內極偶然會感覺到地殼震動，但影響都很輕微。

5. 食水

香港缺少大型河流及湖泊。開埠以來，淡水供應便成為政府必須面對的問題。政府早年依賴興建水塘供水，全港至今共\_\_\_\_\_個水塘，總容量達\_\_\_\_\_億立方米；另一方面則由\_\_\_\_\_年代開始與廣東省簽訂協議，供應省內東江水到港。

(三) 香港各區人口比例



維基百科—香港行政區劃

<https://zh.wikipedia.org/zh-hk/%E9%A6%99%E6%B8%AF%E8%A1%8C%E6%94%BF%E5%8D%80%E5%8A%83%E5%88%86%E5%8D%80%E4%BD%9C%E7%94%A8>

8

根據 2011 年人口普查結果的圖表，分析各區人口比例資料，並回答以下問題。



1. 十八區中，\_\_\_\_\_的面積最大，有\_\_\_\_\_平方公里；\_\_\_\_\_區的面積最小，只有\_\_\_\_\_平方公里。
2. 依面積的大小，從大至小將香港島、九龍和新界排列出來。  
\_\_\_\_\_ > \_\_\_\_\_ > \_\_\_\_\_ 在九龍中，
3. \_\_\_\_\_區和\_\_\_\_\_區的面積是相約的。





4. 十八區中，\_\_\_\_\_區人口密度最高，有\_\_\_\_\_ p/km<sup>2</sup>。  
(註：人口密度即是每平方公里住了多少人)
5. 十八區中，\_\_\_\_\_區人口密度最低，有\_\_\_\_\_ p/km<sup>2</sup>，我認  
此區密度最低的原因是：\_\_\_\_\_
6. 假如，你的家人將會搬屋，你會首選哪一區？原因是？  
我會首選\_\_\_\_\_區，原因是\_\_\_\_\_。

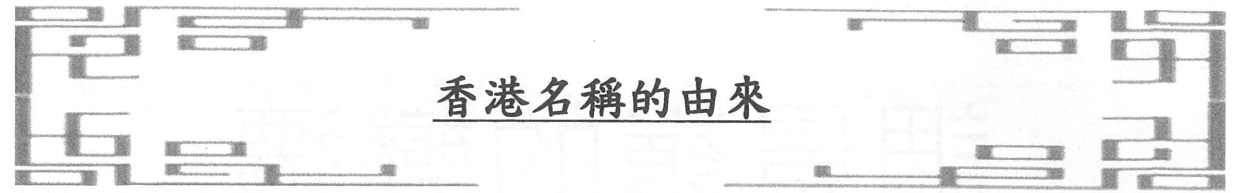
### 申延學習

如果你想知道香港更多人口的資料，可以到下列網站瀏覽：

<p>香港便覽 - 人口</p>  <p><a href="https://www.gov.hk/tc/about/about_hk/factsheets/docs/population.pdf">https://www.gov.hk/tc/about/about_hk/factsheets/docs/population.pdf</a></p>	<p>政府統計處—人口統計</p>  <p><a href="https://www.censtatd.gov.hk/hksat/sub/so20_tc.jsp">https://www.censtatd.gov.hk/hksat/sub/so20_tc.jsp</a></p>
---	---


如果你想認識多些面積的定義及換算，可以到下列網站瀏覽：

<p>面積的定義</p>  <p><a href="https://zh.wikipedia.org/zh-hk/%E9%9D%A2%E7%A7%AF">https://zh.wikipedia.org/zh-hk/%E9%9D%A2%E7%A7%AF</a></p>	<p>面積單位換算</p>  <p><a href="http://www.kwuntung.net/hkunit/area/">http://www.kwuntung.net/hkunit/area/</a></p>
---	--



### 香港名稱的由來

1. 在眾多有關「香港」名稱由來的說法中，你最相信哪一個？為甚麼？  
\_\_\_\_\_  
\_\_\_\_\_  
\_\_\_\_\_
2. 搜查一張「老香港」的圖片，貼在下面方框內，並與同學分享。



# 調景嶺的變遷

1960 至 90 年代，調景嶺只是一片寮屋區域，有其獨特的歷史文化背景。直至 1996 年，寮屋區被清拆並發展為將軍澳新市鎮的其中一部份。

你對調景嶺的歷史有何認識？觀看老師為你準備的影片，你會發現

調景嶺已經消失的另一面。

香港歷史系列 II 第八集 調景嶺歲月 part1

[https://www.youtube.com/watch?v=ByxUv\\_59vFU](https://www.youtube.com/watch?v=ByxUv_59vFU)

觀看影片，並完成工作紙。

1. 1945 年時，香港只有 60 多萬人，至 1950 年香港人口激增至多少人？

- A. 100 多萬人。                      ○B. 150 多萬人。  
○C. 200 多萬人。                      ○D. 210 多萬人。

2. 1950 年，香港哪一處有幾千人是有民國政府背景的難民？

- A. 西環 摩星嶺。                      ○B. 西環 西營盤。  
○C. 西環 龍虎山。                      ○D. 西環 鋼綫灣。

3. 1950 年端午節，西環 摩星嶺發生的打鬥事件，起因是什麼？

- A. 有人跳肚皮舞。                      ○B. 有人跳秧歌舞。  
○C. 有人跳土風舞。                      ○D. 有人跳爵士舞。

4. 50 年代初，住在調景嶺的天主教及基督教教徒被稱為什麼？

- A. 奶粉教徒。                              ○B. 異教徒。  
○C. 伊斯蘭教徒。                              ○D. 虛偽教徒。

5. 調景嶺的第一間學校是哪一間？

- A. 宣基中學                                      ○B. 慕德中學。  
○C. 信義中學。                                      ○D. 鳴遠中學。

6. 問題 6：當年有很多區外人入讀調景嶺的寄宿學校，為什麼？

- A. 免疫。    ○B. 免稅。  
○C. 免學費。    ○D. 免做功課。

7. 哪一年香港政府為調景嶺提供水電及交通配備？

- A. 1962 年。    ○B. 1964 年。  
○C. 1972 年。    ○D. 1997 年。

8. 1962 年，哪一個颱風摧毀了調景嶺百分之九十幾的房屋？

- A. 天鴿。    ○B. 天兔。  
○C. 露絲。    ○D. 溫黛。

大家如對舊日的調景嶺有興趣，可以到下列網址查看：

維基百科

<https://zh.wikipedia.org/wiki/%E8%AA%BF%E6%99%AF%E5%B6%BA>



解密百年香港 — 遷拆調景嶺

<https://www.youtube.com/watch?v=SiwLvu4D6DY>



再造的空間 — 調景嶺 2.3 事

<https://www.youtube.com/watch?v=0VHt6LbpyqY>



# 圖書大搜查



日期：\_\_\_\_\_


書名：\_\_\_\_\_

作者：\_\_\_\_\_


出版社：\_\_\_\_\_

索書號：\_\_\_\_\_

以文字/圖畫簡單介紹你在圖書館閱讀的香港地理書籍：



# 學習日誌



日期：\_\_\_\_\_ (星期 \_\_\_\_\_) 天氣：\_\_\_\_\_

今天我學會了：\_\_\_\_\_

---



---



---



---



---



---



---



---



---



---



# 學習日誌

日期：\_\_\_\_\_（星期 \_\_\_\_\_） 天氣：\_\_\_\_\_

今天我學會了：\_\_\_\_\_

\_\_\_\_\_

\_\_\_\_\_

\_\_\_\_\_

\_\_\_\_\_

\_\_\_\_\_

\_\_\_\_\_



# 學習日誌

日期：\_\_\_\_\_（星期 \_\_\_\_\_） 天氣：\_\_\_\_\_

今天我學會了：\_\_\_\_\_

\_\_\_\_\_

\_\_\_\_\_

\_\_\_\_\_

\_\_\_\_\_

\_\_\_\_\_

\_\_\_\_\_

# 學習日誌



日期：\_\_\_\_\_（星期 \_\_\_\_\_） 天氣：\_\_\_\_\_

今天我學會了：\_\_\_\_\_

---

---

---

---

---

---

---