


聖公會將軍澳基德小學

「全方位主題學習」

2017-2018

主題：香港古蹟知多少



班別：五年級_____班 姓名：_____ ()

目錄


<u>活動</u>	<u>頁數</u>
1. 參觀 <u>元朗屏山文物徑</u> -----	p. 4-8
2. 追蹤 <u>香港古蹟</u> -----	p. 9-11
3. 文物探索之旅-----	p. 12
4. 古蹟知識大比拼-----	p. 13-15
5. 古蹟對對碰-----	p. 16-24
6. <最受五年級同學歡迎的古蹟>統計活動-----	p. 25
7. 超級歷史大電視-----	p. 26
8. 古蹟介紹-----	p. 27
9. 愛護古蹟棋盤大比拼-----	P. 28
10. 全方位日誌-----	p. 29-30
11. 自我評估-----	p. 31



5A 班時間表



	15/1/18 星期一	16/1/18 星期二	17/1/18 星期三	18/1/18 星期四	19/1/18 星期五
8:05-8:20	早禱				
8:20-8:30	班主任時間				
8:30-9:40 (70 分鐘)	古蹟對對碰	參觀元朗屏山 文物徑	文物探索之 旅	古蹟棋盤 設計	
9:40-9:50	小息				
9:50-11:00 (70 分鐘)	追蹤香港古蹟	參觀元朗屏山 文物徑	超級歷史大 電視	古蹟知識 大比拼 (問答比賽)	
11:00-11:20	小息				
11:20-12:30 (70 分鐘)	高年級講座	參觀元朗屏山 文物徑	最受五年級 同學歡迎的 古蹟	古蹟介紹	
12:30-1:30	午膳				
1:30-2:30 (60 分鐘)	古蹟知識 大比拼	參觀元朗屏山 文物徑		古蹟棋盤大 比拼	
2:30-3:00 (30 分鐘)	全方位日誌	全方位日誌		全方位日誌	
3:00-3:15 (15 分鐘)	班主任時間			班主任時間	








5B 班時間表




	15/1/18 星期一	16/1/18 星期二	17/1/18 星期三	18/1/18 星期四	19/1/18 星期五
8:05-8:20	早禱				
8:20-8:30	班主任時間				
8:30-9:40 (70 分鐘)	古蹟對對碰	參觀元朗屏山 文物徑	文物探索之 旅	古蹟棋盤 設計	
9:40-9:50	小息				
9:50-11:00 (70 分鐘)	追蹤香港古蹟	參觀元朗屏山 文物徑	超級歷史大 電視	古蹟知識 大比拼 (問答比賽)	
11:00-11:20	小息				
11:20-12:30 (70 分鐘)	高年級講座	參觀元朗屏山 文物徑	最受五年級 同學歡迎的 古蹟	古蹟介紹	
12:30-1:30	午膳				
1:30-2:30 (60 分鐘)	古蹟知識 大比拼	參觀元朗屏山 文物徑		古蹟棋盤大 比拼	
2:30-3:00 (30 分鐘)	全方位日誌	全方位日誌		全方位日誌	
3:00-3:15 (15 分鐘)	班主任時間			班主任時間	



5C 班時間表



	15/1/18 星期一	16/1/18 星期二	17/1/18 星期三	18/1/18 星期四	19/1/18 星期五
8:05-8:20	早禱				
8:20-8:30	班主任時間				
8:30-9:40 (70 分鐘)	追蹤香港古蹟	參觀元朗屏山 文物徑	超級歷史大 電視	古蹟棋盤 設計	
9:40-9:50	小息				
9:50-11:00 (70 分鐘)	古蹟對對碰	參觀元朗屏山 文物徑	文物探索之 旅	古蹟知識 大比拼 (問答比賽)	
11:00-11:20	小息				
11:20-12:30 (70 分鐘)	高年級講座	參觀元朗屏山 文物徑	最受五年級 同學歡迎的 古蹟	古蹟介紹	
12:30-1:30	午膳				
1:30-2:30 (60 分鐘)	古蹟知識 大比拼	參觀元朗屏山 文物徑		古蹟棋盤大 比拼	
2:30-3:00 (30 分鐘)	全方位日誌	全方位日誌		全方位日誌	
3:00-3:15 (15 分鐘)	班主任時間			班主任時間	



參觀元朗屏山文物徑

屏山鄧族文物館暨文物徑訪客中心

元朗屏山是香港歷史最悠久的地區之一。鄧族為新界其中一個重要的宗族，早在十二世紀時已定居於屏山，建村立圍，並先後興建多所傳統中式建築。1993年，古物古蹟辦事處在屏山鄧族的大力支持下，設立屏山文物徑，把區內的歷史建築物連繫起來，讓遊人參觀。2007年，古物古蹟辦事處及屏山鄧族再次攜手合作，籌辦屏山鄧族文物館暨文物徑訪客中心（文物館），介紹屏山鄧族的歷史文物及文物徑沿途古蹟。

文物館主要分為三部分：

- (一) 屏山鄧族文物館：展示屏山鄧族的珍貴文物，並由村民親身訴說他們的歷史風俗及文化生活。
- (二) 屏山文物徑展覽室：介紹屏山文物徑沿途古蹟。
- (三) 社區文物展覽室：展出由不同學校或社區團體籌辦的專題展覽，以介紹香港、特別是新界地區的歷史文化

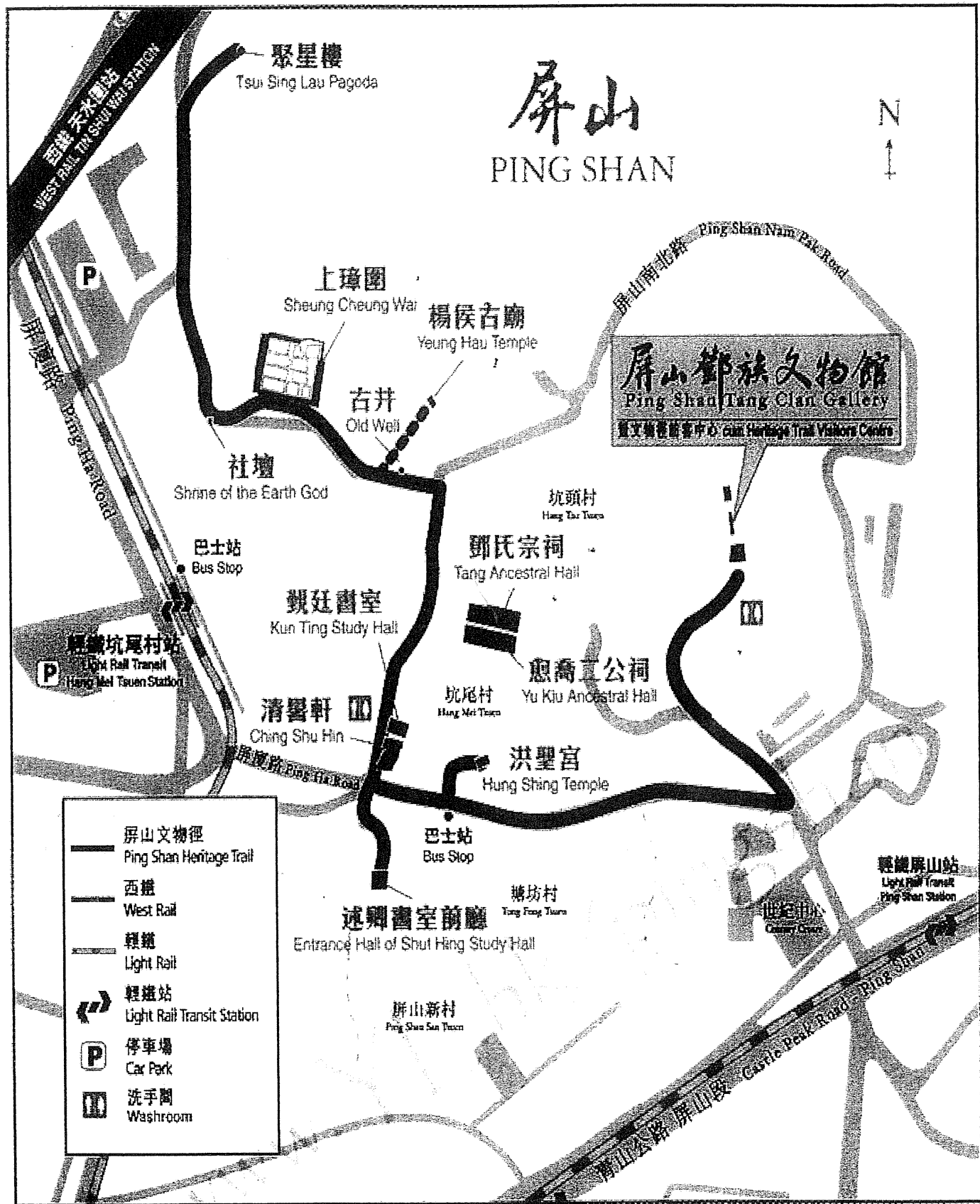


屏山文物徑


屏山文物徑蜿蜒於坑頭村、坑尾村和上璋圍間，長約一公里，將多座典型中國傳統建築接連起來，遊人可從中領略過往新界的傳統生活面貌。

文物徑沿線的獨特古蹟包括聚星樓（香港唯一的古塔）、上璋圍（一古老圍村）、鄧氏宗祠（本港最大的祠堂之一）、愈喬二公祠、覲廷書室（專為村中子弟準備科舉考試而建）、洪聖宮、楊侯古廟及其他多所傳統建築。文物徑沿途設有路標，為參觀者引路，並設置資料板介紹沿途古蹟。






1. 洪聖宮牆外，紅色與白色的圖案像什麼吉祥物？_____
2. 昔日覲廷書室及愈喬二公祠有何用途？_____
3. 哪一建築物是揉合中西建築特色？_____
4. 祠堂有什麼用途？_____
5. 鄧氏宗祠屋頂山是哪兩種動物？_____
6. 在文物徑中，哪一對聯出現了多次？_____
7. 上璋圍四周的圍牆上有幾個小孔，有何作用？_____
8. 聚星樓原有七層，現還餘下多少層？_____
9. 聚星樓外形呈現什麼形狀？_____
10. 你認為這些中式古舊的建築物應否值得保留？為什麼？_____



12. 中式建築風格特色：

中式建築物的外牆或屋頂上有很多圖案(請繪畫及填上顏色)




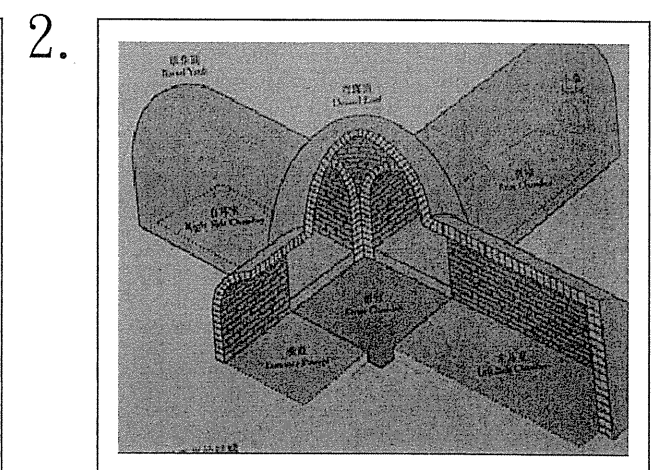

這些圖案或飾物有什麼喻意：_____

追蹤香港古蹟
工作紙


(一) 《香港的歷史古蹟》

歷史古蹟的背後：你認為下列圖片反映昔日香港居民的
哪些文化和生活習慣？把正確的英文字母填在圖片下
的直線上。

- A. 尊敬祖先
- B. 重視教育
- C. 部分居民以捕魚為生
- D. 部分居民以務農為生
- E. 香港的生活文化源自內地
- F. 香港是一個華洋集處的地方



5.



6.



(二) 經驗分享

你曾遊覽過哪些香港古蹟？你從這古蹟可理解到昔日香港居民的哪些文化和生活習慣？

(三) 《古蹟活化的香港》系列

名言啟示錄 2012-11-05 古蹟活化的香港 (一)

<http://www.youtube.com/watch?v=qoEM-0jsL7o>

名言啟示錄 2012-11-05 古蹟活化的香港 (二)

http://www.youtube.com/watch?v=wTQBhf_WCh0

名言啟示錄 2012-11-05 古蹟活化的香港 (三)

<http://www.youtube.com/watch?v=OH0aVbNP9yw>

名言啟示錄 2012-11-05 古蹟活化的香港 (四)

<http://www.youtube.com/watch?v=LwosEwhqwdM>

名言啟示錄 2012-11-05 古蹟活化的香港 (五)

<http://www.youtube.com/watch?v=m6fMEqMUjX0>

1. 根據《古蹟活化的香港 (一)》提及，香港歷史建築被分為多少個級別？

_____個級別

2. 根據《古蹟活化的香港 (二)》提及，伯大尼療養院修復工程完成後，交給哪個機構使用？

- A. 香港藝術學院
- B. 香港演藝學院
- C. 香港建築學院
- D. 香港教育學院

3. 根據《古蹟活化的香港 (三)》提及，下列哪項對雷生春的描述是不正確的？

- A. 是一級歷史建築。
- B. 業權原本由九龍巴士創辦人雷亮持有。
- C. 雷生春以前原是一所西醫診所。
- D. 雷生春現在被活化成一間中醫館。

4. 根據《古蹟活化的香港 (四)》提及，下列哪項對中區警署建築群的描述是不正確的？

- A. 由舊中區警署、前中央裁判司署、域多利監獄等組成。
- B. 屬於維多利亞式建築。
- C. 舊中區警署過去又叫「大館」。
- D. 域多利監獄的F倉因歷史文化價值較低而被拆除。

5. 在看完《古蹟活化的香港》系列後，你認為保育古蹟有什麼好處呢？



同學請以下網址或二維碼進入《古物古蹟辦事處》的網址，透過遊戲來了解香港各地的歷史。當中的內容會與稍後的班際古蹟問題比賽有關啊，請大家留心！

<http://www.amo.gov.hk/yfoh/games/heritage/game.htm>



日期：_____

古蹟知識大比拼

同學可到電腦室瀏覽有關古蹟的網頁或到圖書館搜集有關香港古蹟的資料，並進行整理。接著，同學要擬定題目（最少兩道選擇題），準備問答比賽之用。

筆記：

Handwriting practice area with horizontal lines.

▶ 歡迎參與「文物探索之旅」互動遊戲。我們將帶領你進入一個奇妙的文物世界，讓你置身於不同挑戰及驚喜的文物遺址。



▶ 歡迎參與「文物探索之旅」互動遊戲。我們將帶領你進入一個奇妙的文物世界，讓你置身於充滿不同挑戰及驚喜的文物遺址。請準備接受任務，一段驚險旅程即將開始。




古蹟對對碰

早在 6,000 年前，香港已有先民聚居；從 19 世紀中至 20 世紀末，香港歷經了 150 多年的殖民統治，在獨特的歷史背景下，東方傳統和西方文化兼收並蓄，給香港留下了很多歷史古蹟，有廟宇圍城，也有教堂高樓。目前，香港共有 101 個法定古蹟，分佈在香港島、九龍、新界和離島四地區，您可以到各區遊覽，感受香港中西薈萃的文化色彩。

請瀏覽以下網頁，找出所描述的古蹟，然後填寫正確答案：

<http://www.discoverhongkong.com/tc/see-do/culture-heritage/declared-monuments/index.jsp>

I. 香港島



古蹟中文名稱：_____

古蹟英文名稱：_____

地址：赤柱赤柱村道八十八號

此古蹟建於_____年，是本港現存最古老的警署建築。警署早期作為港島最南端的前哨站，戰略地位重要，因此常供_____及英軍聯合使用。_____期間日軍曾徵用為分區總部，並加建殮房。戰後恢復用作警署，直至_____年。後由南區政務處分處使用，曾用作餐廳，現為超級市場。



古蹟中文名稱： _____


古蹟英文名稱： _____

地址： 半山區司徒拔道45號景賢里

此古蹟是以中國 _____ 風格建造、糅合優秀的中西式建築特色的罕有例子。它原名「禧廬」，約建於一九三七年，首任業主為岑李寶麟女士。一九七八年，大宅售予邱氏家族—邱子文先生及其子邱木城先生，邱氏家族把大宅易名為「 _____ 」。

大宅具有標誌著香港歷史發展的重要性。它是散建於港島山邊的歷史豪宅之一，不僅反映當時 _____ 在本港地位日高，財富日增，也展示高尚住宅區開始在 _____ 成形的本港早期歷史。

II. 九龍




古蹟中文名稱： _____

古蹟英文名稱： _____

地址： 九龍尖沙咀廣東道2號A

此古蹟建於一八八四年，整組建築羣包括主樓、馬廄及 _____ (俗稱圓屋)。除日佔期間(一九四一至一九四五年)曾用作日本外，至一九九六年為止，一直為水警所用。主樓本為一所兩層高建築，後於一九二〇年代加建一層，主樓東南及東西兩翼為已婚職員宿舍。日佔期間於水警總部前草地下建有大規模 _____。二次大戰後，為安全起見，封閉地下通道，及重鋪草地。報時塔可謂

整座水警總部最具特色之建築，為海港船隻_____。其作用於一九〇七年大包米的訊號塔落成啟用後而消失。前水警總部為現存最古老的政府建築之一。於一九九四年被列為法定古蹟。




古蹟中文名稱：_____

古蹟英文名稱：_____

地址：九龍尖沙咀

九廣鐵路_____於一九一〇年十月一日通車。尖沙咀_____興建工程於一九一三年展開。一九一五年鐘樓建成。火車總站於一九七八年拆卸，只留下鐘樓，成為本港的標記。鐘樓高_____米，樓頂裝有七米高的_____。

III. 新界



古蹟中文名稱：_____

古蹟英文名稱：_____

地址：元朗新田永平村

這座華麗的府第於_____朝_____年（一八六五年）由文頌鑾所建。文氏的先祖自十五世紀已在_____定居。大夫第是本港最華麗的傳統建築之一，並以其精巧的建築裝飾而著名。修葺工程由香港賽馬會資助，於_____年完成，現已開放供市民參觀。



古蹟中文名稱： _____

古蹟英文名稱： _____


地址：西貢東龍洲

此古蹟位於東龍洲 _____，俯瞰佛堂門海峽。據《新安縣志》記載，東龍洲炮台是為了防禦 _____ 而於康熙年間(一六六二至一七二二年)興建。但亦有資料記載，炮台為兩廣總督 _____ 於任內(一七一九至一七二四年)下令建造。

炮台呈 _____，外牆長 33.5 米，闊 22.5 米，圍牆高度約為三米，入口設於北牆。炮台有營房十五所及大炮八門。炮台建成後，一直駐有守軍，及至十九世紀初，海盜日益猖獗，而炮台位於孤島上，補給和支援困難，遂在一八一〇年被 _____ 取代。

炮台修繕工程於一九七九至八二年期間進行。當進行修繕工程時，古物古蹟辦事處在義工協助下，在炮台內部進行有系統的考古發掘工作，出土器物數量甚豐。

IV. 離島

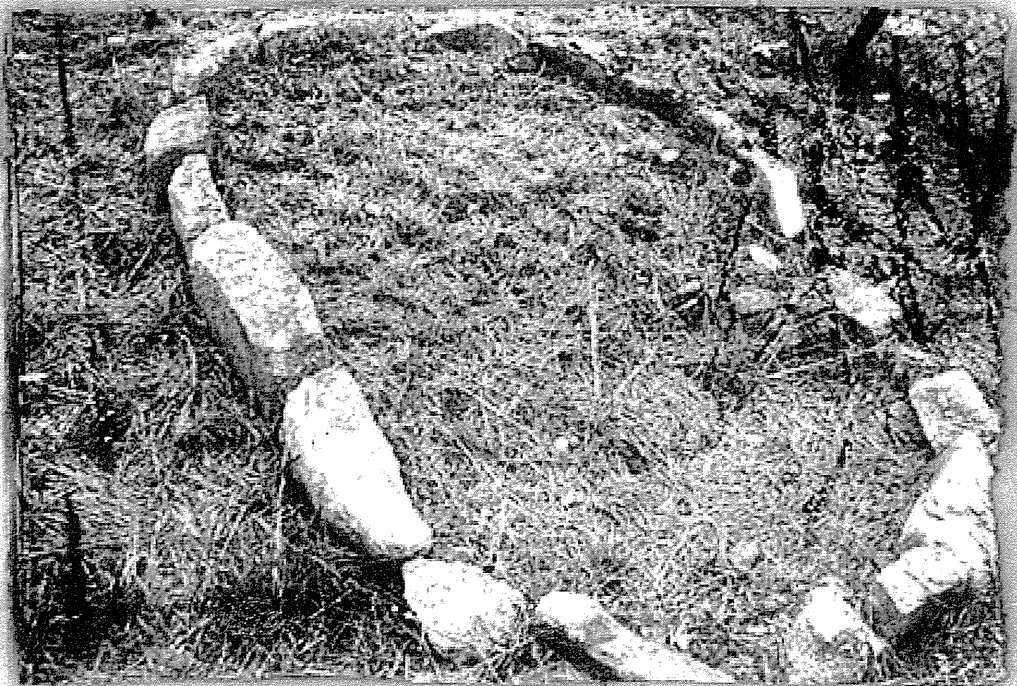


古蹟中文名稱： _____

古蹟英文名稱： _____

地址：長洲東灣

一九七〇年，即發現大浪灣石刻的同年，一位地質學家亦發現了此古蹟。它位於連島沙洲的 _____ 部，即華威酒店對下。石刻上的兩組紋飾均由數條曲線環繞著 _____ 構成。其中一組紋飾在發現時尚未完全暴露，經清理泥土後方展現全貌。



古蹟中文名稱： _____

古蹟英文名稱： _____

地址： 大嶼山分流

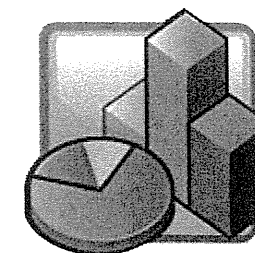
這圈未經琢磨的 _____，似是刻意堆疊，形成一組長 2.7 米、寬 1.7 米的 _____ 結構。石塊排列有序，正好說明人工砌築的痕蹟。用大塊石頭堆疊成形形色色的結構，是 _____ 時代晚期及青銅時代早期文化特徵之一，分佈範圍遍及世界各地；分流的石圓環，很可能也屬這類結構。相類的巨石結構，在中國也有發現；香港出土新石器和青銅時代的文物既然十分豐富，石圓環的發現，當非偶然。堆疊石圓環的目的已無法稽考，但大抵與 _____ 儀式有關。

「最受五年級同學歡迎的古蹟」統計活動

訪問 30 名或以上的五年級同學，完成下列表格後，用電腦或手繪，製作一個統計圖。


古蹟名稱					
人數 (「正字」統計)					
實際人數					

最受五年級同學歡迎的古蹟



超級歷史大電視

1. 學生分為四組，每組選出十個與歷史有關的字詞（如：歷史人物、古蹟、歷史事件等）寫於字詞卡上，然後將所有字詞卡放於一個大箱內由老師打亂。
2. 活動分四次進行，每次每組派出二名代表逐一抽出歷史字詞，在限時內用動作或語言提示其他隊員估出字詞，若代表說出電視裡的其中一個字，此回合會作廢。
3. 若字詞完全與歷史無關，負責估的組別會直接得分，一切結果由老師負責裁決。
4. 估中最多之組為勝。



日期：_____

古蹟介紹

組別：第_____組


我組要介紹的古蹟：_____

匯報方式：(簡報 / 文件及圖片 / 其他：_____)



自評及互評：(圈出適合的分數)

匯報評分	自評				互評 1				互評 2				互評 3				互評 4			
介紹內容豐富	1	2	3	4	1	2	3	4	1	2	3	4	1	2	3	4	1	2	3	4
表達清晰	1	2	3	4	1	2	3	4	1	2	3	4	1	2	3	4	1	2	3	4
圖片精美、合適	1	2	3	4	1	2	3	4	1	2	3	4	1	2	3	4	1	2	3	4
說話聲音響亮	1	2	3	4	1	2	3	4	1	2	3	4	1	2	3	4	1	2	3	4
整體評分	1	2	3	4	1	2	3	4	1	2	3	4	1	2	3	4	1	2	3	4



愛護古蹟棋盤大比拼

你喜歡棋盤遊戲嗎？

你玩過象棋嗎？你玩過跳棋嗎？你玩過鬥獸棋嗎？你玩過飛行棋嗎？你玩過康樂棋嗎？你玩過……

也許你玩過很多棋盤遊戲，但你不一定玩過「愛護古蹟棋盤大比拼」！

「愛護古蹟棋盤」——什麼來的？哪裡有賣？

什麼來的？你設計出來的。

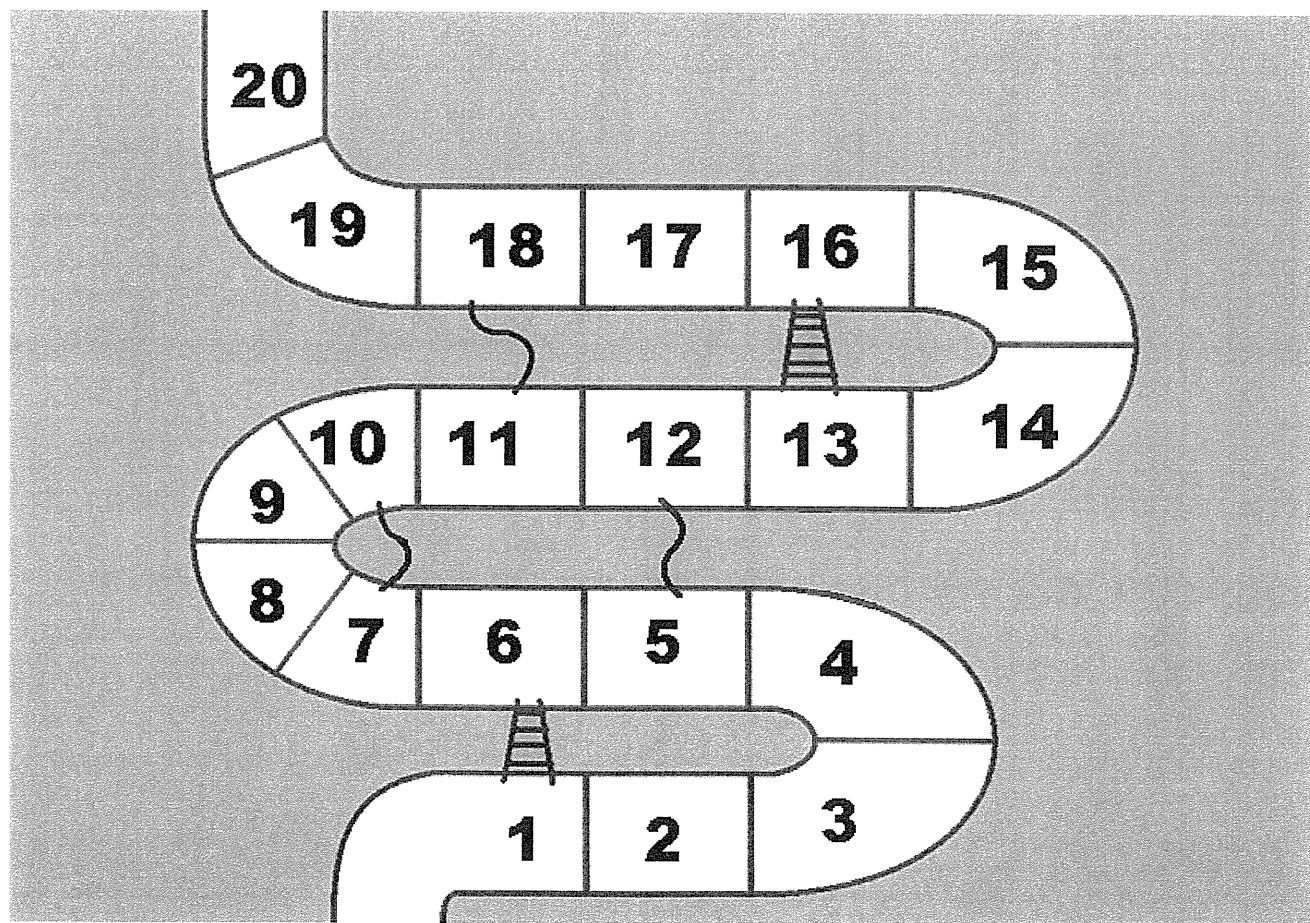
哪裡有賣？不買不賣。

這個活動就是要你把棋盤設計出來。

在開始創作之前，你可以先與同學們討論一下什麼是愛護古蹟的行為，

然後根據這些行為擬訂遊戲規則，設計獎懲準則。

棋盤示例



全方位主題學習 - 香港古蹟知多少

全方位日誌

星期_____

星期_____

全方位主題學習 - 香港古蹟知多少

全方位日誌

星期_____

星期_____

自我評估

1. 你認為今次參觀的時間足夠嗎？

- 過長 適合 過短

2. 經過這次活動後，你認識屏山鄧族文物館及屏山文物徑的事物增加多少？

- 增加很多
 增加一點
 沒有增加

3. 如果學校再到屏山鄧族文物館及屏山文物徑參觀，你會參加嗎？

- 會，因為_____。
 不會，因為_____。

4. 我最喜歡_____，
因為_____。

5. 你積極參與這次活動的程度是：(請填色)



6. 你喜歡這次參觀的程度是：(請填色)

